

2014年度・学力考査問題

(中学第2回)

【社会】

注 意

1. 試験時間は40分です。
2. 解答用紙のみ試験終了後あつめます。
3. 問題は12ページで4題あります。開始の合図で必ず確認し、そろっていない場合にはすぐに手をあげなさい。

1

次の文を読んで、後の問いに答えなさい。

今から100年前、の皇太子がセルビアの青年に暗殺されたことから、第一次世界大戦がはじまりました。戦争は総力戦になり、約1000万人の犠牲者を出しました。戦後、連合国はパリで講和会議を開き、敗戦したドイツと条約を結びました。この条約でドイツは領土の一部を失い、巨額の賠償金を課せられました。また国際連盟の設立も決まり、世界の国々が協力して国際平和を守ろうとしました。ここでは第一次世界大戦にいたる日本の動きを見てみましょう。

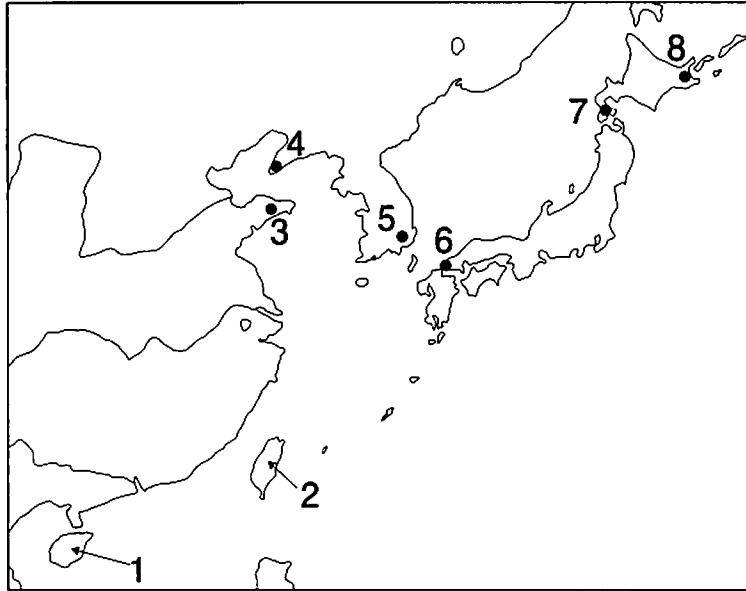
明治政府ができると、新政府は富国強兵をスローガンに近代化のための改革を行い、殖産興業として産業の育成を図り、また日本銀行を設立するなど金融制度を整えました。一方、国内では立憲政治の実現をめぐる自由民権運動が始まりました。新政府は国会を開くことを約束し、大日本帝国憲法を公布し、帝国議会が開かれました。19世紀の末になると、朝鮮での問題から日清戦争が occurred。日本は勝利し、下関条約が結ばれ、台湾などが清から譲られました。20世紀に入ると、今度はロシアとの戦争が始まり、この戦争でも日本は勝利し、ポーツマス条約で遼東半島に関する権利を得ました。その後、韓国を併合し大陸への足場を築くなか、第一次世界大戦がはじまりました。日本は日英同盟を口実にドイツに宣戦し、中国にあるドイツの領土を占領しました。国内ではこの頃、本格的な政党内閣が生まれ、日本の政党政治の基礎ができました。

第一次世界大戦後、日本は国際連盟の常任理事国になりましたが、満州事変のち国際連盟を脱退し、ドイツとともに国際社会から孤立していきました。日本国内では軍国主義が高まり、やがて日中戦争・太平洋戦争をむかえることとなります。

問1 文中の・にあてはまる語句を、下の語群から選び、それぞれ番号で答えなさい。

- | | | | |
|---------|----------|-----------|---------|
| 1. ウィーン | 2. ベルサイユ | 3. パリ | 4. ロンドン |
| 5. イタリア | 6. イギリス | 7. オーストリア | 8. ドイツ |

問2 文中の「下関条約・台湾の場所を、下の地図から選び、それぞれ番号で答えなさい。



問3 下線部アについて、第一次世界大戦後にドイツで制定されたワイマール憲法に関する以下の問いに答えなさい。

(1) ワイマール憲法は社会権を初めて定めた憲法として有名です。次の中から日本国憲法で社会権として定められていないものを1つ選び、番号で答えなさい。

1. 教育を受ける権利 2. 知る権利 3. 勤労の権利 4. 生存権

(2) ワイマール憲法では、労働者が団結して労働組合を作る権利を認めました。現在の日本国憲法では団結権の他、団体で行動する権利も認められています。労働者が自分たちの要求を通すため、団結して仕事を停止することを何といいますか。カタカナで答えなさい。

問4 下線部イについて、国際連盟は二度目の大戦を防ぐことができず、国際連合が作られることとなりました。国際連盟と国際連合の説明として誤っているものを次の中から1つ選び、番号で答えなさい。

1. 国際連盟の総会の議決方法は全会一致であったが、国際連合は多数決である。
2. 国際連盟は武力制裁のみが認められたが、国際連合は経済制裁と武力制裁の両方が認められている。
3. 国際連盟の本部はジュネーブにあったが、国際連合の本部はニューヨークにある。
4. 国際連盟にアメリカ合衆国は参加しなかったが、国際連合には参加している。

問5 下線部ウについて、現在の日本銀行についての説明として正しいものを次の中から1つ選び、番号で答えなさい。

1. 日本銀行とは日本の地方銀行の一つである。
2. 日本銀行は紙幣を発行することができない。
3. 日本銀行は家計や企業から預かったお金を他の企業などに貸し出している。
4. 日本銀行は不況の時には国債を買うなど金融政策を行う。

問6 下線部エについて、大日本帝国憲法は現在の日本国憲法と多くの点で異^{こと}なります。二つの憲法の違いの説明として、誤っているものを次の中から1つ選び、番号で答えなさい。

1. 大日本帝国憲法は天皇が定めたが、日本国憲法は国民が定めた。
2. 大日本帝国憲法で個人の権利は法律の範囲内で認められたが、日本国憲法では侵すことのできない権利として保障されている。
3. 大日本帝国憲法で主権は天皇にあったが、日本国憲法では国民にある。
4. 大日本帝国憲法では勤労が義務とされていたが、日本国憲法では兵役の義務に代わった。

問7 下線部オについて、現代の日本の政党政治や政党に関する説明として誤っているものを、次の中から1つ選び、番号で答えなさい。

1. 政党政治とは、議会の運営を政党中心に行う政治の仕組みである。
2. 政党とは、同じ考えを持つ人々が政権の獲得を目指して作る集団のことである。
3. 政権を担当しない政党を与党という。
4. 選挙の時、政党が出す政権公約をマニフェストという。

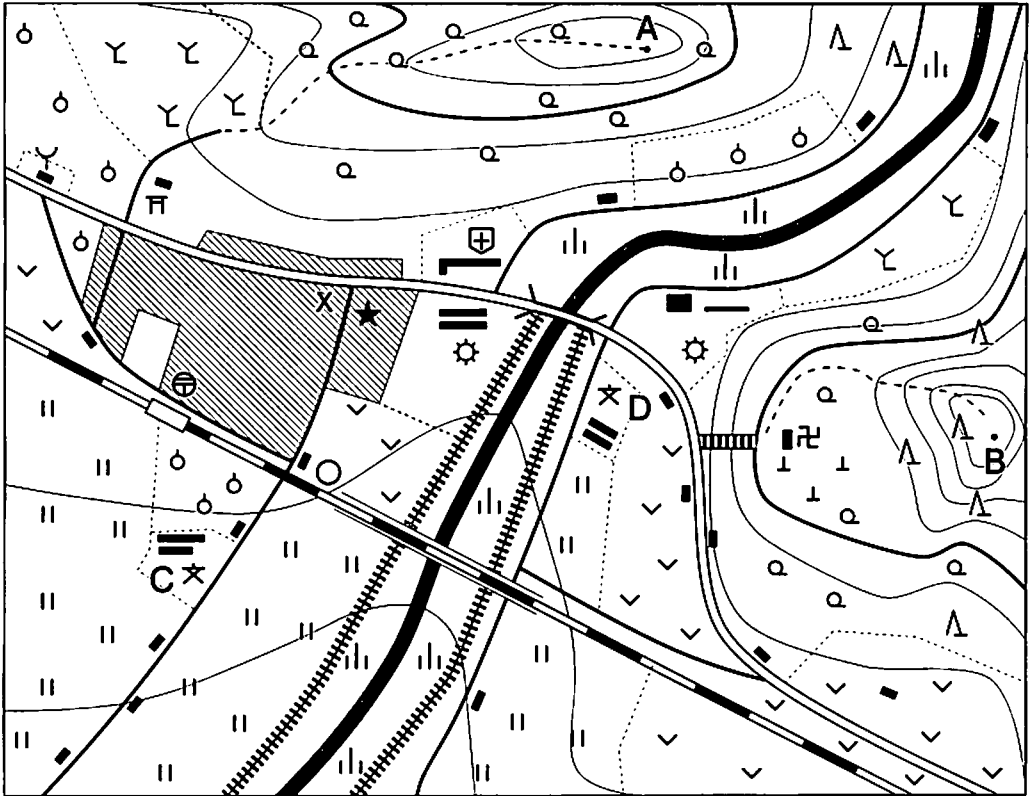
問8 下線部カについて、国際連盟で常任理事国であった国はイギリス・フランス・日本・イタリアです。この中で国際連合でも安全保障理事会の常任理事国になっている国をすべて答えなさい。

問9 下線部キについて、日中戦争と太平洋戦争に関する説明として誤っているものを、次の中から1つ選び、番号で答えなさい。

1. 日中戦争は北京郊外の盧溝橋事件がきっかけでおこった。
2. 太平洋戦争は日本がインドネシアの真珠湾を奇襲したことからはじまった。
3. ミッドウェー海戦で日本は敗れ、大きな打撃をうけた。
4. 戦争が進むと、日本では学徒出陣で多くの学生が戦地に送り出された。

2

次の地図は、自分の住む地域の様子を2万5千分の1の地形図のきまりにしたがって描いたものです。地図とそれについてのべた文を読んで、後の問いに答えなさい。



私の住んでいるところは、都会と違って多くの自然が残っています。

ア私の家(★印)の場所は、多くの家が集まっている中にあり、近くには病院や工場があって、その先には川にかかる大きな橋があります。

また、この地域にはウ2つの学校があります。1つは私の通う学校で、まわりには田んぼや畑があります。兄は2年前にこの学校を卒業し、今はもう1つの学校に通っています。

地図の中には、A山・B山のエ2つの山があり、山頂からはこの地域一帯を一望することができます。どちらの山にも登山道が整備されているので、山頂まで登ることができます。

問1 下線部アについて、私の家の近くにある×の地図記号は何をあらわしているか答えなさい。

問2 下線部イについて、大きな橋は地図中で8ミリメートルで描かれています。実際の橋の長さは何メートルですか。

問3 下線部ウについて、2つの学校の説明としてあてはまるものを、次の中から1つ選び、番号で答えなさい。

1. 私が通っているのはC校で、C校は小学校、D校は中学校である。
2. 私が通っているのはC校で、C校は中学校、D校は高等学校である。
3. 私が通っているのはD校で、C校は中学校、D校は小学校である。
4. 私が通っているのはD校で、C校は高等学校、D校は中学校である。

問4 下線部エについて、2つの山に関する文として正しいものを、次の中から2つ選び、番号で答えなさい。

1. A山からB山は南東の方向に見え、B山からA山は北西の方向に見える。
2. A山の山頂付近には針葉樹が多いが、B山の山頂付近には広葉樹が多い。
3. A山の登山道は入り口に神社があり、B山の登山道よりもゆるやかな傾斜の登山道になっている。
4. A山の登山道は尾根にそってつくられているが、B山の登山道は谷にそってつくられている。
5. B山の^{ちゅうぶく}中腹には寺院があり、そこまではケーブルカーがつけられている。

問5 図中に描かれている内容として誤っているものを、次の中から2つ選び、番号で答えなさい。なお、選択肢中の「上下左右」は、地図中の「上下左右」をあらわしています。

1. 駅前には郵便局がある。
2. 川は下から上の方向に流れている。
3. この地図の中には茶畑は描かれていない。
4. この地図の中には竹林は描かれていない。
5. 駅前の道を右に進むと道路のつきあたりに市役所がある。
6. 駅前の道を左に進むと道路のつきあたりには消防署がある。

問6 地図中の駅の^{ひょうこう}標高が175 mであるとき、A山の山頂の標高は225 mです。B山の山頂の標高はおよそ何mになるか。次の中から選んで、番号で答えなさい。

1. およそ145 m
2. およそ195 m
3. およそ245 m
4. およそ295 m
5. およそ345 m

3

次のア～カの文について、文中・表中の ① ～ ⑫ にあてはまる語句・数字を答えなさい。

〔ア〕 日本の国土は、本州・北海道・九州・ ① の4つの大きな島を中心にその他の数多くの島々からなっており、その数はおよそ ② 千におよびます。

〔イ〕 日本の気候は本州以南がおもに ③ 帯に属しており、四季の変化がはっきりあらわれます。これに対し北海道の大部分は短い夏と長く厳しい冬があらわれる ④ 帯に属しています。

〔ウ〕 日本では昨年、国内最高気温記録が更新されました。一日の最高気温が ⑤ ℃以上の日を真夏日といい、 ⑥ ℃以上の日を猛暑日とよびます。

〔エ〕 次の表Aはキャベツ、表Bは小麦の生産高上位の都道府県を示しています。

表A	愛知 18	⑦ 18	千葉 9	茨城 6	神奈川 6	その他		
表B	⑧ 61				福岡 8	佐賀 5	群馬 4	その他

埼玉 3

※統計はともに2010年、単位は%（データブック オブ・ザ・ワールド2013 二宮書店より）

〔オ〕 日本では1960年代から公害に対するさまざまな取り組みが^{おこな}行われ、1967年に ㊟法が制定されました。また、1971年に設置された ㊠は、2001年に省にあらためられました。


〔カ〕 日本は資源にとほしいため、 ㊡・㊢などの資源の多くを外国から輸入しています。次の表Cは ㊡の輸入相手国を、表Dは ㊢の輸入相手国をあらわしています。

表C	オーストラリア 63	ブラジル 29			その他
			南アフリカ 4	インド 3	
表D	オーストラリア 60	インドネシア 20	ロシア 7	カナダ 6	その他
				アメリカ 4	

※統計はともに2011年、単位は%（データブック オブ・ザ・ワールド2013 二宮書店より）

4

先生と生徒が山形県米沢市の博物館に行き、下の「洛中洛外図屏風」を見ながら話をしています。次の、先生と生徒の会話文を読んで、後の問いに答えなさい。



(米沢市上杉博物館)

- 生徒：これが有名な「洛中洛外図屏風」ですね。だれが描いたのですか。
- 先生：狩野永徳だといわれています。狩野永徳は、 やア大阪城の障壁画も描いたといわれる桃山文化を代表する画家です。
- 生徒： といえば、織田信長が近江に作った城ですね。この作品も織田信長に関係があるのですか。
- 先生：はい、この作品は1574年に織田信長が上杉謙信に贈ったものだといわれています。この屏風が米沢にあるのは、上杉謙信のあとを継いだ上杉景勝が米沢の大名になり、その後江戸時代を通じて上杉氏が米沢を支配したからです。
- 生徒：1574年ということは、織田信長が敗死した がおこった8年前ですね。この作品をみると、天下統一を目指して京都を見わたしている信長の気持ちが想像されます。北の真ん中にある「内裏」とは天皇のいるところですよ。
- 先生：はい、京都には長く天皇の住まいがありました。この作品が描かれたのが1574年頃とすると、この時点で平安京に都が移されて以来 くらい、京都が天皇の住まいになっていたという計算になります。
- 生徒：この「細川殿」や「公方様」と描いてある所も天皇のすまいですか。とても大きくて立派です。
- 先生：いいえ、「細川」は守護大名、細川氏のことです。ウ「公方」とは将軍のことです。将軍のすまいは「花の御所」とよばれたこともあり、庭の美しさも有名でした。

生徒：花といえば、梅の咲いている「北野」とは北野天満宮ですね。受験生の私にこの神社のお守りをくれた人がいます。どうして北野天満宮は合格祈願で有名なのですか。

先生：遣唐使の中止を提案したことで有名な ③ が亡くなった後、都で災いがたくさんおこったので、人々は ③ の怨霊だと考え、この神社を建てました。③ が有名な学者だったので、「学問の神」として信仰されているのですよ。平安時代の人々は死者の怨霊をしずめることを大切に考えて祭りもよく行っていました。この作品にも平安時代から行われている祇園祭が描かれていますよ。この作品が上杉謙信に贈られる100年くらい前におきた戦乱である ④ で京都が焼け野原になった時には中止されましたが、その後には復活し、現在も行われている歴史あるお祭りです。

生徒：文化的なまよおしがたくさん行われていて、庶民のエネルギーも伝わります。商売もさかんな様子ですし、畑に種まきをしている農民も描かれています。

先生：室町時代は農業が発達し、米の裏作に麦を作る ⑤ が全国的に行われるようになりました。それとともに室町時代は商業や工業もとても発達しました。この作品を見ていると、京都の歴史や人々の様子がよくわかりますね。

問1 文中の ① ~ ⑤ にあてはまる語句・人名を、答えなさい。

問2 文中の * にあてはまる年数として正しいものを、次の中から1つ選び、番号で答えなさい。

1. 150年間 2. 380年間 3. 780年間 4. 860年間

問3 下線部アについて、大阪城は1615年に攻め落とされ、焼失します。その時に大阪城で自害した人物を、次の中から1人選び、番号で答えなさい。

1. 徳川家康 2. 石田三成 3. 豊臣秀頼 4. 明智光秀

問4 下線部イについて、「細川氏」とは室町幕府で將軍の補佐をし、実権をにぎった家の1つです。細川氏が室町幕府でついた役職として正しいものを、次の中から1つ選び、番号で答えなさい。

1. 管領 2. 老中 3. 執権 4. 大老 5. 町奉行

問5 下線部ウについて、この「花の御所」をすまいとした「將軍」としてもっとも適当な人物を、次の中から1人選び、番号で答えなさい。

1. 徳川家光 2. 坂上田村麻呂 3. 源頼朝 4. 足利義満

問6 下線部エについて、室町時代の庶民の社会・文化に関して、もっとも適当なものを、次の中から1つ選び、番号で答えなさい。

1. 町人のこどもたちは寺子屋に集まり、儒学や蘭学を教わった。
2. 能の幕間には、滑稽味のある狂言が演じられた。
3. 念仏をとなえることを説いた法然の説法に、たくさんの庶民が集まった。
4. 出雲の阿国による人形浄瑠璃が人気になった。

問7 下線部オについて、室町時代の商工業に関して、もっとも適当なものを、次の中から1つ選び、番号で答えなさい。

1. 土倉や酒屋は庶民に金を貸して富をたくわえた。
2. 加賀の西陣織など全国各地で手工業が発達した。
3. 西廻り航路で上方にものが集まり、上方は「天下の台所」といわれた。
4. 和同開珎が全国的に流通し、貨幣経済が発達した。

問8 下線部カについて、次のⅠ～Ⅲのできごとを時代の古い順に並べたものとして正しいものを、下の1～6から選び、番号で答えなさい。

- Ⅰ 二条河原に、建武の新政の頃の混乱をあらわす落侍^{らくしよ}が立てられた。
- Ⅱ 徳川慶喜が、二条城で大政奉還の決意を諸大名に伝えた。
- Ⅲ 承久の乱の後に、幕府が六波羅探題を置いた。

1. Ⅰ→Ⅱ→Ⅲ

2. Ⅰ→Ⅲ→Ⅱ

3. Ⅱ→Ⅰ→Ⅲ

4. Ⅱ→Ⅲ→Ⅰ

5. Ⅲ→Ⅰ→Ⅱ

6. Ⅲ→Ⅱ→Ⅰ

問9 _____部について、上杉景勝は1598年頃には会津など120万石という大きな領地を支配する大名でしたが、その数年後には米沢30万石に領地が減りました。景勝の領地が減らされた理由を具体的な戦乱名をあげて説明しなさい。

【社会】

解答用紙(中学第2回)

1

問1	①		②		問2	I		II	
問3	(1)		(2)		問4				
問5			問6			問7			
問8					問9				

1

--

2

問1		問2		メートル	問3		
問4			問5			問6	

2

--

3

ア	①		②		千	
イ	③		帯	④		帯
ウ	⑤		℃	⑥		℃
エ	⑦			⑧		

3

--

才	⑨	法	⑩
力	⑪		⑫

4

問1	①	②	③
	④	⑤	

4

--

問2	問3	問4
問5	問6	問7
		問8

問9

受験番号		氏名	
------	--	----	--

得点	
----	--