

2015年度・学力考查問題

(中学第3回)

【社会】

注 意

1. 試験時間は40分です。
2. 解答用紙のみ試験終了後あつめます。
3. 問題は12ページで3題あります。開始の合図で必ず確認し、そろっていない場合にはすぐに手をあげなさい。

1

次の、先生と生徒の会話文を読んで、後の問いに答えなさい。

先生：古代ギリシアの哲学者アリストテレスが、「人間は社会的動物である」と言ったように、私たちは、家族や社会といった集団を作って生活しています。

生徒：それぞれ違う考えを持っている人が一緒にいるのですから、意見の対立や争いが発生することがありますよね。そこで、ア国会やイ内閣が政治をおこなって調整するのですよね。

先生：そうですね。政治とは、広い意味で、話し合いや交渉などで争いを解決することをいいますが、国や地方公共団体がそのはたらきをしていますね。それでは、賛否両論があるTPPを例に挙げて、政治について考えてみましょう。TPP（エ環太平洋パートナーシップ）協定とは、2006年に発効した環太平洋戦略的経済連携協定というオ自由貿易協定を拡大させたもので、簡単にいえば、その協定の参加国の間でカ関税をなくし、輸出入をやすくするものです。

生徒：参加すると、日本にとって損だと聞いたことがあります。

先生：必ずしもそうとは言えません。TPPへの参加でどのような影響があるか、農林水産省・経済産業省・内閣府が発表した試算をみてください。

農林水産省	TPPに参加した場合、日本の農業生産は3兆4000億円減少し、 <u>キ食料自給率</u> （カロリーベース）は、26%へ低下する。（2012年の再計算を反映した数値）
経済産業省	TPPに参加しない場合、2020年に <u>クGDP</u> が10兆5000億円減少し、 <u>ケ雇用</u> は81万2000人減少する。
内閣府	TPP参加時のGDP増加分と不参加時のGDP減少分を合わせると、10年間でプラス3兆円～4兆円程度である。

生徒：テレビなどを見ていると、TPP反対派の声の方が大きいように感じますが、参加・不参加どちらが良いか、わかりませんね。

先生：確かにそうですね。ただ、実際に世論調査をしてみると、TPP参加について賛成が52%に対して反対が25%と、賛成する意見の方が多いのです（2014年4月朝日新聞）。ところが、国会議員の半数近くがTPPに反対の立場をとっています。

生徒：なぜ世論と国会議員の意見にそんなにも違いがあるのですか。

先生：例えば、TPP参加による国全体の利益の合計が1兆円で、利益を得る人が5000万人いるとし、国全体の損失の合計が6000億円で、損失を被る人が300万人いるとします。この場合、利益は1人あたり2万円なのに対し、損失は1人あたり20万円になります。

生徒：経済的利益のみを考えれば、国全体では ※ ということになりますよね。

先生：ところが、利益を得る人たちは、1人あたりの利益がそれほど多くないので、積極的に利益を獲得しようとはしません。それに対して、損失を被る人たちは1人あたりの損失が大きいので、献金や選挙での集票を背景に、国会議員や政党に圧力をかけ損失を防ごうとする意欲が強くなります。献金や票を容易に集めたいと思う国会議員は、それに応える形で損失を被る側に立つので、TPPに反対する国会議員が多くなるのですね。

生徒：特定の集団が政治に影響を与えて、社会全体の利益ではなく特定の人たちの利益を追求するようになるのは良くないですね。TPP参加・不参加いずれにしても、国民の多様な意見を吸収した上で議論し、結論に反映させてもらいたいですね。

先生：そのためには、国民がしっかりと選挙に行き、意思表示しなければなりませんね。

問1 下線部アについて、国会に関する以下の問いに答えなさい。

- (1) 2014年11月21日に衆議院が解散し、12月14日に衆議院議員総選挙がおこなわれました。この選挙後初めて開かれた国会の種類として正しいものを、次の中から1つ選び、番号で答えなさい。

1. 通常国会 2. 臨時国会 3. 特別国会 4. 緊急集会

- (2) 衆議院と参議院で異なった議決をした場合に、衆議院の議決が国会の議決となる場合があるなど、衆議院には参議院よりも少し強い権限が与えられていますが、これを何といいますか。
- (3) (2)で答えた権限が衆議院に与えられているのは、衆議院は参議院よりもその時々国民の意思を反映しやすいからであると考えられています。衆議院のほうがその時々国民の意思を反映できるのはなぜですか、その理由を答えなさい。

問2 下線部イについて、内閣の仕事に関する説明として正しいものを、次の中から1つ選び、番号で答えなさい。

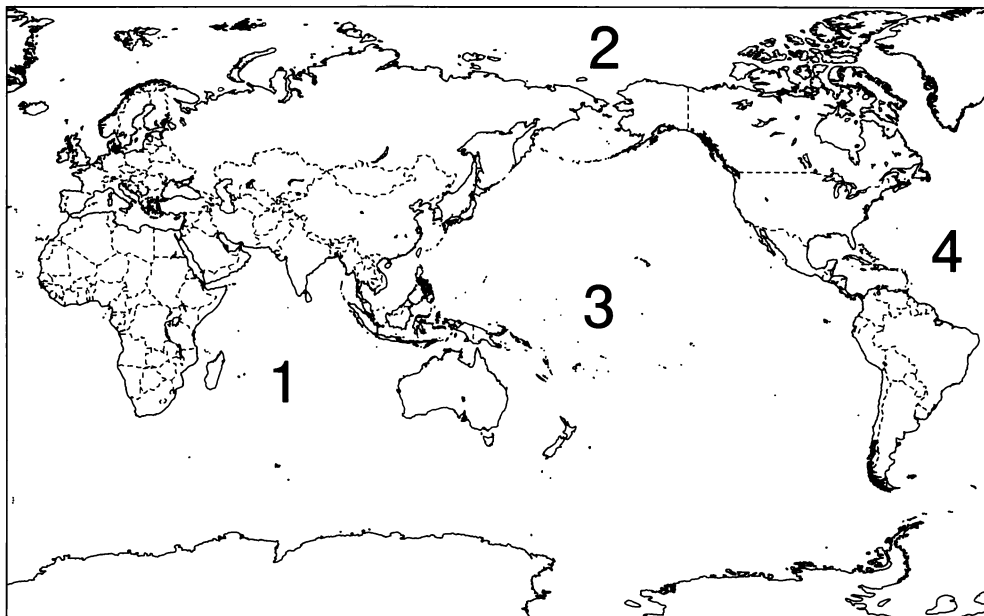
1. 予算案や法律案の審議・議決と決算の承認をおこなう。
2. 最高裁判所長官の指名と長官以外の裁判官の任命をおこなう。
3. 天皇の助言と承認によって、憲法に定められた国事行為をおこなう。
4. 憲法や法律に定められたことを実施するために条例を制定する。

問3 下線部ウについて、地方公共団体の住民には直接請求権が認められていますが、この直接請求権についての説明として正しいものを、次の中から1つ選び、番号で答えなさい。

1. 議員の解職請求は、原則として有権者数の50分の1以上の署名を首長に提出しておこなう。
2. 議会の解散請求は、原則として有権者数の50分の1以上の署名を首長に提出しておこなう。
3. 監査の請求は、原則として有権者数の3分の1以上の署名を選挙管理委員会に提出しておこなう。
4. 首長の解職請求は、原則として有権者数の3分の1以上の署名を選挙管理委員会に提出しておこなう。

問4 下線部エについて、以下の問いに答えなさい。

(1) 太平洋の位置を、次の地図中から選び、番号で答えなさい。

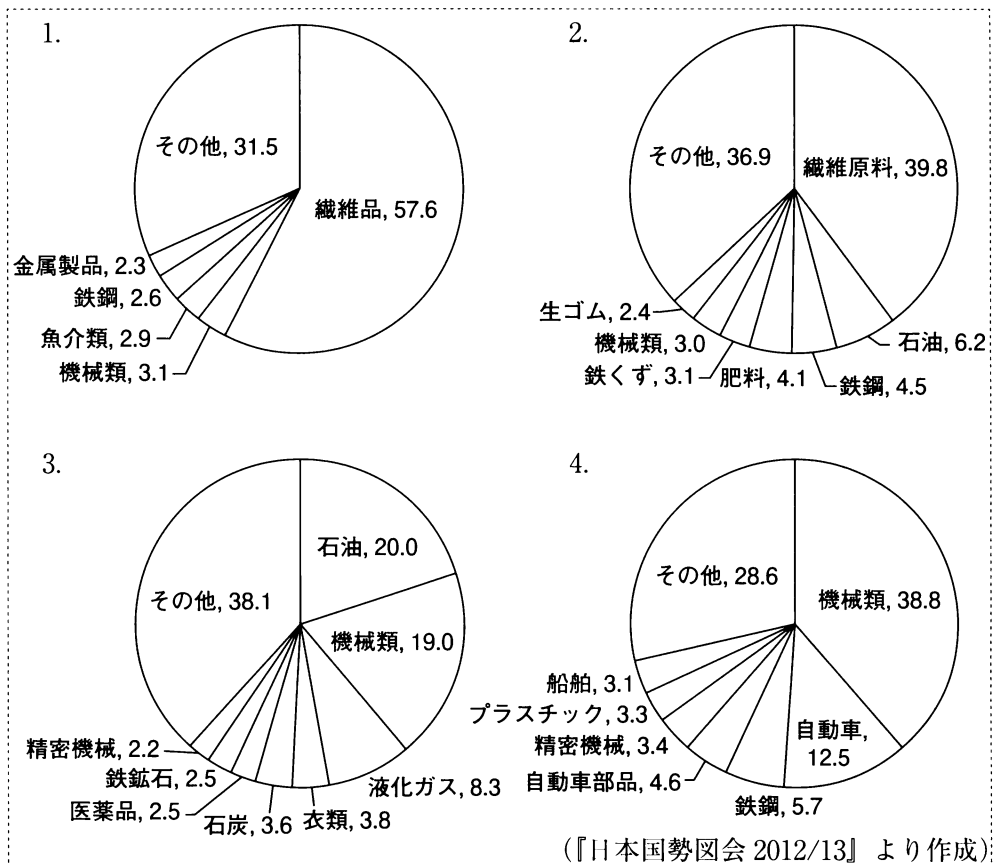


(2) 太平洋に面していない国を次の中から1つ選び、番号で答えなさい。

1. アメリカ合衆国
2. ロシア連邦
3. オーストラリア
4. ブラジル

問5 下線部オについて、以下の問いに答えなさい。

- (1) 貿易の自由化を目的に、関税の引き下げや輸入制限の撤廃などをすすめる国際機関の名称を、アルファベット3字の略称で答えなさい。
- (2) 次のグラフは、日本の貿易における各品目の占める割合を表したものです（金額ベース）。2011年の日本の輸入を表すグラフはどれか、次の中から1つ選び、番号で答えなさい。



問6 下線部カについて、以下の問いに答えなさい。

- (1) 関税は、間接税に分類される租税ですが、関税と同様に間接税に分類されるものを、次の中から1つ選び、番号で答えなさい。

1. 消費税 2. 法人税 3. 相続税 4. 固定資産税

- (2) 関税などの間接税には採用が困難な、高所得者ほど高い税率を課す制度を何といえますか。
- (3) 国や地方公共団体は租税を集め、さまざまな仕事に支出をします。2014年度の国の一般会計歳出のうち最も多くの割合を占めている項目を、次の中から1つ選び、番号で答えなさい。

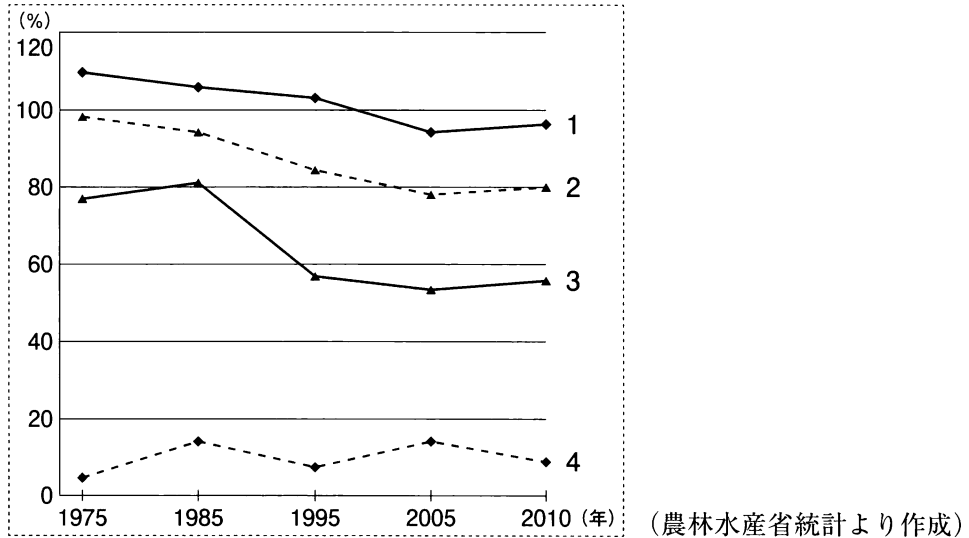
1. 防衛関係費 2. 公共事業関係費 3. 社会保障関係費 4. 国債費

問7 下線部キについて、以下の問いに答えなさい。(なお、自給率の数値はカロリーベースとする。)

(1) 2011年度の総合食料自給率の数値として最も近いものを、次の中から1つ選び、番号で答えなさい。

1. 29% 2. 39% 3. 49% 4. 59%

(2) 下のグラフは、米・小麦・野菜・肉類の自給率の推移を示したものです。肉類を表すグラフはどれか、1つ選び、番号で答えなさい。



問8 下線部クについて、以下の問いに答えなさい。

- (1) GDPを日本語で何といいますか。
 (2) GDPとGNPについての説明として誤っているものを、次の中から1つ選び、番号で答えなさい。

1. 日本のGDPには、日本国内にいる日本人が生産した価値を含める。
 2. 日本のGDPには、外国にいる日本人が生産した価値を含めない。
 3. 日本のGNPには、日本国内にいる外国人が生産した価値を含める。
 4. 日本のGNPには、外国にいる日本人が生産した価値を含める。

問9 下線部ケについて、1985年に制定され、募集・採用・配置・昇進など雇用に関する女性差別を禁止した法律を何といいますか。

問10 下線部コについて、2014年の衆議院議員総選挙で選出された議員の数は何名か、答えなさい。

問 11 空欄 に入れるのに最もふさわしい文を、前後の文の内容を参考にして、次の中から1つ選び、番号で答えなさい。

1. 4000 億円の利益があるので、T P P に参加した方が良い
2. 多数の人が利益を得ることができ、1 人当たりの利益も多いので、T P P に参加しない方が良い
3. 損失を被る人は少数であり、1 人当たりの損失も少ないので、T P P に参加しない方が良い
4. 4000 億円の損失があるが、T P P に参加した方が良い

2

次の文章を読んで、後の問いに答えなさい。

古来より多くの人々が日本列島にやってきました。日本にやってきた人々により日本の社会は変化し、歴史は大きく動くこととなります。ここでは紀元前から明治維新までの動きを見てみましょう。

氷河時代、大陸から大型の動物を追って、人々が日本列島へ移り住みました。約1万年前に氷河時代が終わると、ア日本列島はほぼ現在の形になり、新しい文化が発達しました。

紀元前5世紀頃、大陸から人々が渡ってきました。これらの人々は、稲作や金属器などの文化を日本に伝えました。稲作がさかんになると社会も変わり、小さな国もできました。イこの頃の日本については中国の歴史書から知ることができます。

4世紀になると、豪族たちは大王を中心に連合し 政権が生まれました。 政権と大陸との交流が盛んになると、朝鮮半島から日本列島に移住する人々が増えました。この人々のことを 人といい、絹織物・漢字・儒教や仏教などを日本に伝えました。儒教や仏教は日本人の思想や信仰に大きな影響を与えました。ウ奈良時代になると、日本は中国の制度や文化を取り入れるためにたびたび使いを送りました。一方、中国から来日した鑑真のような僧もいました。

13世紀、元の皇帝 は朝鮮に続き日本も従わせようと使者を送りました。しかし幕府の執権であった がこれを拒否したことから、エ攻め入ってきました。これを蒙古襲来（元寇）といいます。このオ蒙古襲来のあと、日本の社会は大きく変わりました。

16世紀にはポルトガル人が種子島に流れ着き鉄砲を伝えました。鉄砲が広まると、戦術や城づくりが変化しました。同じ頃、 会の宣教師であったスペイン人のザビエルが鹿児島に上陸し、キリスト教を伝えました。その後も多くの宣教師が伝道した結果、キリシタンとなる者が増えました。ポルトガル人やスペイン人は当時 人と呼ばれ、カ長崎などに来航し貿易をおこないました。

17世紀に江戸幕府が開かれると、それまでとだえていた朝鮮との国交が回復し、朝鮮からは通信使が派遣されました。この通信使をもとにした祭りや踊りが各地でおこなわれるようになり、現在にも伝えられています。

18世紀の末、ロシアからの使節である が根室に来航し貿易を求めてきました。19世紀に入るとイギリスやアメリカの船も日本に近づきました。1853年にはアメリカのペリーが軍艦を率いて浦賀に来航しました。軍艦の威力に驚いた幕府は翌年、キ日米和親条約を結び、日本は開国しました。開国によりク攘夷を主張する声が高まり、やがて倒幕への動きがおこり、日本は明治維新を迎えることとなります。

問1 文中の ～ にあてはまる語句を答えなさい。

問2 下線部アについて、この新しい文化に関する説明として誤っているものを、次の中から1つ選び、番号で答えなさい。

1. 石を磨いて作る磨製石器が使用された。
2. すばやい動物を狩るために弓矢を使った。
3. 人々は集団を作り、たてあな 竪穴住居に分かれて住んだ。
4. 縄文土器に比べて薄くかたい弥生土器が使用された。

問3 下線部イについて、中国の歴史書によるこの頃の日本に関する説明として誤っているものを、次の中から1つ選び、番号で答えなさい。

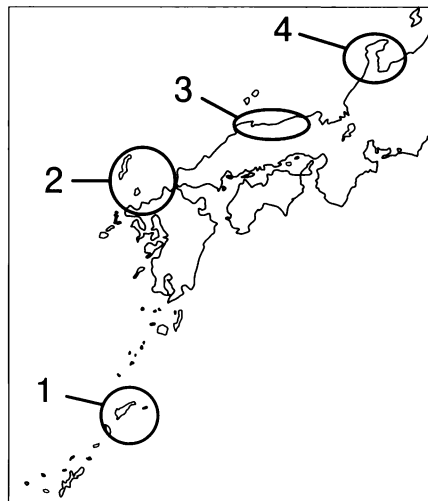
1. 紀元前後、倭には100余りの国があったと記されている。
2. 1世紀の半ばには九州の豪族の1人が秦に使いを送り、皇帝から金印を与えられたと記されている。
3. 『魏志』の倭人伝によると、邪馬台国の卑弥呼が30余りの国を従えていたと記されている。
4. 卑弥呼は皇帝から「親魏倭王」の称号と金印を授けられたと記されている。

問4 下線部ウについて、以下の問いに答えなさい。

- (1) 日本が使いを送った中国の王朝を、漢字1字で答えなさい。
- (2) この時、留学生として中国に渡ったが遭難して日本に帰れず、一生を中国で終えた人物を次の中から1人選び、番号で答えなさい。

1. 小野妹子
2. 最澄
3. 阿倍仲麻呂
4. 菅原道真

問5 下線部エについて、元軍が攻め入ってきたところとして正しいものを、次の地図の中から1つ選び、番号で答えなさい。



問6 下線部オについて、蒙古襲来のと、幕府は御家人たちに十分な恩賞を与えられず、御家人の幕府への不満が高まりました。なぜ十分な恩賞を与えることができなかったのか、説明しなさい。

問7 下線部カについて、この時期にポルトガルやスペインとの貿易で日本が主に輸出したものを、次の中から1つ選び、番号で答えなさい。

- | | | | |
|--------|----------|-------|------|
| 1. 絹織物 | 2. ガラス製品 | 3. 生糸 | 4. 銀 |
|--------|----------|-------|------|

問8 下線部キについて、日米和親条約に関する説明として正しいものを、次の中から1つ選び、番号で答えなさい。

- | |
|--------------------------------|
| 1. 横浜・函館の2港を開くことが決まった。 |
| 2. アメリカ人の犯罪はアメリカの領事が裁くこととなった。 |
| 3. 日本は関税率を自由に決めることができなくなった。 |
| 4. アメリカ船に食料・水・燃料などを供給することを認めた。 |

問9 下線部クについて、攘夷に関する説明として正しいものを、次の中から1つ選び、番号で答えなさい。

- | |
|----------------------------------|
| 1. 朝廷と幕府の合体により幕府の権威を回復させようとする考え。 |
| 2. 欧米の外国勢力を武力で撃退しようとする考え。 |
| 3. 武力を放棄し外国にたよろうとする考え。 |
| 4. 欧米と同盟し進んだ技術を取り入れようとする考え。 |

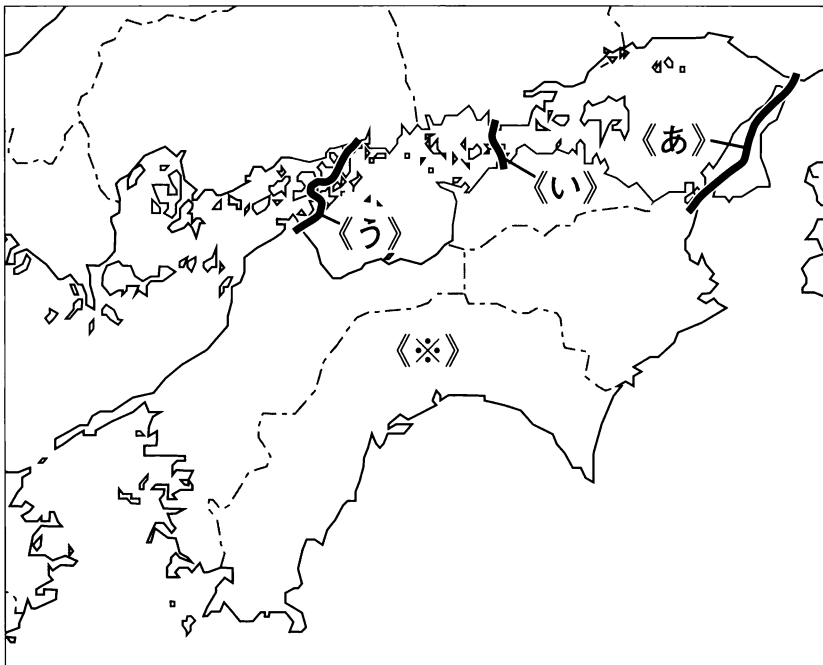
このページには、問題がありません。

3

次の文章を読み、地図をみて、後の問いに答えなさい。

本州と四国を結ぶ本州四国連絡橋は3つのルートがあります。

地図中の《あ》は、神戸・ルートで、瀬戸内海最大の島である島を經由して阪神地方と結びつき、四国との距離や時間が大幅に縮まりました。《い》は、児島・坂出ルートで、道路と鉄道の上下2段の橋になっています。鉄道で結ばれたことにより、四国と本州の間で通勤や通学をする人々も増えたようです。《う》は、尾道・今治ルートで、多くの橋でつながれたルートです。このルートは瀬戸内海道といわれています。



- 問1 文中の ~ にあてはまる語句や地名を答えなさい。
- 問2 地図中の《あ》~《う》の各ルートの四国側の県の県庁所在地をそれぞれ答えなさい。
- 問3 地図中の《い》のルートの橋の名称を答えなさい。
- 問4 地図中の《あ》~《う》の各ルートの中で、最初に開通したのはどれですか。記号で答えなさい。

問5 地図中の《※》印の県について、以下の問いに答えなさい。

(1) この県の生産量が全国1位の野菜を次の中から1つ選び、番号で答えなさい。

1. きゅうり 2. なす 3. レタス 4. トマト

(2) (1)で選んだ野菜のこの県での出荷の最盛期を次の中から選び、番号で答えなさい。

1. 2月 2. 5月 3. 8月 4. 11月

【社会】

解答用紙(中学第3回)

1

問1

(1)		(2)	
(3)			

1

--

問2

--

問3

--

問4

(1)		(2)	
-----	--	-----	--

問5

(1)				(2)	
-----	--	--	--	-----	--

問6

(1)		(2)		制度	(3)	
-----	--	-----	--	----	-----	--

問7

(1)		(2)	
-----	--	-----	--

問8

(1)				(2)	
-----	--	--	--	-----	--

問9

		法
--	--	---

問10

		名
--	--	---

問11

--

2

問1

①		政権	②		人	③	
④			⑤		会	⑥	人

2

--

⑦	
---	--

問2

--

問3

--

問4

(1)		(2)	
-----	--	-----	--

問5

--

問6

--

問7

--

問8

--

問9

--

3

問1

①		②		島	③		海道
---	--	---	--	---	---	--	----

3

--

問2

あ		い		う	
---	--	---	--	---	--

問3

--

問4

--

問5

(1)		(2)	
-----	--	-----	--

受験番号		氏名	
------	--	----	--

得点	
----	--