

2018年度・学力考査問題

(中学第3回)

【社会】

注 意

1. 試験時間は40分です。
2. 解答用紙のみ試験終了後集めます。
3. 問題は10ページで3題あります。開始の合図で必ず確認し、そろっていない場合にはすぐに手をあげなさい。

1

次の、生徒と先生との会話文を読んで、後の問いに答えなさい。

先生：夏期自宅学習期間（夏休み）はどこかに出かけましたか。

桐太：東京の池袋にあるサンシャインシティの水族館に行ってきました。頭上に配置された水槽はペンギンが空を飛んでいるように見えて楽しかったですよ。あとは、上野動物園にパンダを見に行ってきました。

ひかり：私は、ヨーロッパ旅行をしました。特にブリュッセルはチョコレートのお店が沢山あって、ワッフルもおいしくて楽しかったです。世界遺産の“グラン＝プラス”も見ってきましたよ。ブリュッセルには、EUの主要機関である欧州委員会の本部のビルや、NATOの本部の建物もありました。ただ、成田空港からブリュッセルまで12時間かかったので疲れました。

先生：二人とも楽しんだようで良かったですね。さて、二人が行動した場所の中には、桐光学園と共通点を持つ場所が含まれていますよ。

ひかり：どんな共通点ですか。全く想像ができません。

先生：実は、サンシャインシティも、成田空港も、桐光学園高等学校も、1978年にできたのです。

桐太：上野動物園のパンダも、1978年に ① 条約を記念して中国から贈られたのではなかったですか。

先生：いいえ、パンダが初めて来たのは1972年に日中共同声明が調印された後です。日中国交正常化が実現したことを記念してパンダが贈られたのです。

桐太：そうでしたか。そういえば、サンシャインシティがあるところは、昔は刑務所だったんですよね。

先生：そうです、よく知っていますね。太平洋戦争後、GHQのもとに置かれたときは、巣鴨プリズンとよばれていて、 ② 裁判の戦争犯罪者の死刑が執行されたという場所でもあります。

桐太：確かに、隣にある東池袋中央公園には慰霊碑が建てられていました。

ひかり：今のサンシャインシティのイメージとはだいぶ違いますね。

先生：成田空港も、建設反対運動と警察との衝突や爆破事件などによって死傷者が発生した歴史の上に、今の姿があります。

桐太：高度経済成長期で空港建設が必要だったとはいえ、騒音問題や土地立ち退きの補償、住民への説明などが不十分だったのかもしれないね。

ひかり：前向きに日本の未来を作っていくことは大切ですが、戦争や住民運動など様々な歴史から、なぜそういうことがあったのか、どうすればよかったのかを学ぶ必要はありますね。

先生：そうですね。未来を作るとは、過去の事実を忘れ去り無視することではなく、過去を学び、過去からの延長を考えることなのかもしれませんね。

問1 文中の ① ・ ② にあてはまる語句を答えなさい。

問2 下線部アについて、ブリュッセルはどの国の首都か、次の中から1つ選び、番号で答えなさい。

1. イギリス 2. イタリア 3. フランス 4. ベルギー

問3 下線部イについて、以下の問いに答えなさい。

(1) “グラン＝プラス”と同じ年に世界遺産に登録された、日本の“古都奈良の文化財”に含まれるものはどれか、次の中から1つ選び、番号で答えなさい。

1. 東大寺 2. 延暦寺 3. 中尊寺 4. 平等院

(2) 世界遺産の登録をおこなう、国際連合の機関の名称をカタカナで答えなさい。

問4 下線部ウについて、EUに関する説明のうち誤っているものを、次の中から1つ選び、番号で答えなさい。

1. イギリスは2016年の国民投票でEUから離脱することを決定した。
2. ドイツからオランダに行く場合、国境検査なしに国境を越えることができる。
3. アメリカとの貿易を活発にするため、共通通貨としてドルを導入している。
4. 自由貿易の実現や経済統合のみならず、政治統合まで目指している。

問5 下線部エについて、NATOは冷戦下における西側陣営の軍事機構として結成されたものです。これに関して、以下の問いに答えなさい。

(1) 冷戦下において、西側陣営に含まれなかった国を、次の中から1つ選び、番号で答えなさい。

1. イギリス 2. フランス 3. アメリカ 4. ソ連

(2) 国際連合はNATOなどの地域的な機関による紛争^{ぶんそう}解決を認めていますが、国際連合自ら軍事的制裁^{せいさい}を決定することもできます。常任理事国5か国を中心に、この軍事的制裁を決定することができる、国際連合の主要機関は何か答えなさい。

問6 下線部オについて、ブリュッセルの時刻は、時差とサマータイムにより、東京の7時間前の時刻を示します。成田（東京）を午前10時50分に出発した飛行機が定刻通りにブリュッセルに到着した場合、到着時刻は現地（ブリュッセル）時間のいつでしょうか。正しいものを、次の中から1つ選び、番号で答えなさい。

1. 午前3時50分 2. 午後3時50分 3. 午前5時50分
4. 午後5時50分 5. 午後10時50分

問7 下線部カについて、以下の問いに答えなさい。

- (1) GHQの最高司令官であったマッカーサーは、憲法改正案を作るためにマッカーサーノートを示し、後に制定された日本国憲法に影響を与えました。次の文はマッカーサーノートの日本語訳の一部です。文中の空欄 にあてはまる語句を、下から1つ選び、番号で答えなさい。

日本は紛争を解決する手段としての 、および自己の安全を保持するための手段としてさえも、を放棄する
…(略)…いかなる日本の陸海空軍も、決して認められず、またいかなる交戦権も、日本軍隊に対して決して与えられない。

1. 主権 2. 公共の福祉 3. 戦争 4. 恒久の平和

- (2) GHQの指令下にあった日本に関する説明として誤っているものを、次の中から1つ選び、番号で答えなさい。

1. 社会主義勢力の進出を警戒して、治安維持法が制定された。
2. 軍国主義を支え利益をあげてきた財閥が解体された。
3. 地主の土地を買い上げ小作人に安い価格で売る農地改革がおこなわれた。
4. 選挙法が改正され、女性に参政権が認められた。

問8 下線部キについて、死刑とは受刑者の生命を奪う刑罰です。この死刑制度の是非については世界的に多くの議論があり、死刑制度を設けている国と設けていない国があります。次の文は、「死刑を廃止すべき」または「死刑を残すべき」といういずれかの立場による主張です。これらの文のうち、「死刑を廃止すべき」という立場からの主張を、次の中から2つ選び、番号で答えなさい。

1. 社会の安全を守る為には、悪質な犯罪者は死をもって社会から退場してもらわなければならない。
2. 無実の者に有罪判決を出してしまう誤判の可能性がないとは言えず、刑を執行した後に誤判が判明した場合、取り返しがつかないことになる。
3. 死刑への恐怖は、犯罪を予防し社会秩序を維持するために必要である。
4. 死刑執行を継続している日本に対して、国際的な非難決議が出ているのでしたがった方がよい。
5. 厳しい刑を科してほしいという被害者遺族の感情に最大限応えるためには、必要な刑罰である。

問9 下線部クについて、以下の問いに答えなさい。

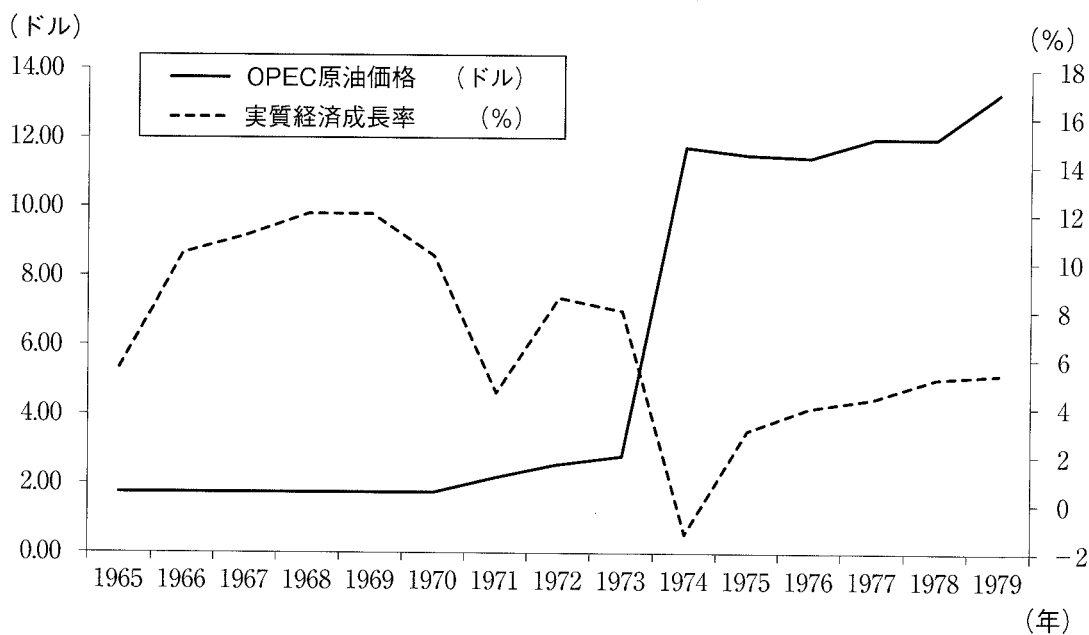
(1) 高度経済成長期に関する説明として誤っているものを、次の中から1つ選び、番号で答えなさい。

1. 都市部から農村部に移り住む人が急増し、農村部の過密化と都市部の過疎化が進んだ。
2. 公害に対応するため、公害対策基本法が制定され、環境庁が設置された。
3. いわゆる「三種の神器」や「3C」の普及によって国民の生活が変化した。
4. 大阪で「人類の進歩と調和」をテーマとする日本万国博覧会が開催された。

(2) 高度経済成長はいつ、どのような原因で終わったと考えられますか。下のグラフを参考にして、簡単に説明しなさい。

《グラフの読み方》

- ・1965年の原油価格は、約1.8ドルであったと読める。
- ・1965年は前年に比べて、約5.7%成長していたと読める。



(注) 原油価格は OPEC アラビアンライト 公示価格・実勢価格のデータを基に作成。

実質経済成長率は内閣府 1998 年度国民経済計算データより作成。(GDP、1990 年基準)

道の歴史に関する次の文章を読んで、後の問いに答えなさい。

7世紀半ば、ア都のおかれた奈良盆地には、道はば約20mの上ツ道、中ツ道、下ツ道が南北に、横大路が東西に通っていました。その後、中央集権体制が整うと、中央と地方を密接に結び、早く移動できるようイ都から全国に延びる7本の幹線道路(7道)も作られました。

1180年、平氏打倒のため伊豆で挙兵した は、鎌倉を本拠地とし、1192年には征夷大將軍に任命されました。幕府が開かれた鎌倉と、朝廷のある京都は二大拠点となり、これを結ぶ東海道は日本の大動脈になりました。1221年、後鳥羽上皇による の乱がおきた時、使者が京都から鎌倉までを3日と18時間で駆け抜けたという記録があります。この時のように、幕府に一大事がおこった時は、武士が「いざ鎌倉」と急ぎ集まることになっており、そのための軍事用の道路として整備されたのが、鎌倉街道でした。

室町幕府が衰えると、戦国大名が各地を支配するようになりました。甲斐(現在の山梨県)を支配した は、軍勢が早く移動できるよう、まっすぐ棒のように延びる棒道を整備し、川中島での上杉謙信との戦いの際に使ったと考えられます。

豊臣秀吉から関東を領地として与えられた は、1590年に江戸に移り住み、城や城下町の建設を始めました。征夷大將軍に任命された1603年頃には、五街道の整備を進め、基点となった江戸の町はにぎわいをみせました。江戸の町は、1657年の明暦の大火で約60%が被災すると、避難しやすい道を作ったり、橋を架けたりするなど防災に強い都市づくりが進みました。その復興費用などで幕府財政は悪化したため、5代将軍 は、質の悪い貨幣をつくり、不評もかいました。

幕末になると流通に変化が生まれました。例えば、「神奈川往還」と呼ばれていた道は、1859年頃から大量の生糸が横浜に向けて輸送され「絹の道」といわれ発展しました。1868年に始まった明治新政府が、産業を近代化する殖産興業政策を進めると、「絹の道」はますます発展しました。1872年に群馬県に作られた官営模範工場である もこの政策の一つで、ここで技術を身につけた女工が各地の製糸工場で指導者となり、製糸業の発展を支えました。

1923年9月1日、【A】が発生し、鉄道の線路が破壊されたため、自動車が輸送に活躍しました。この後は、道路のはばを大きく広げるなどの復興計画が進められました。その計画は、戦後の名古屋市や1995年の【B】後の神戸市の復興においてもモデルとして活用されました。

1944年以降、空襲が激化すると道路も荒廃しました。戦後は、占領政策を担ったGHQの求めによって道路の修理がおこなわれ、その費用は【C】から日本への援助資金が使われました。独立後は、1964年のアジア初の 開催にあわせて、高速道路や東海道新幹線が整備されました。

問1 文中の ① ～ ⑦ にあてはまる語句・人名を答えなさい。

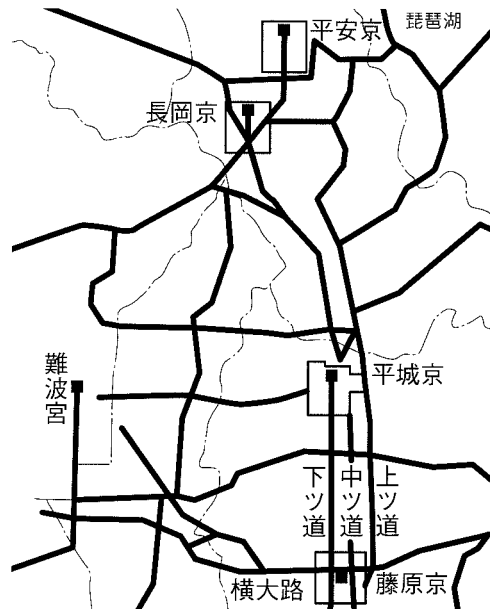
問2 文中の【 A 】と【 B 】にあてはまる語句を、次の中からそれぞれ1つずつ選び、番号で答えなさい。

1. 富士山の噴火 2. 東日本大震災 3. 関東大震災 4. 阪神・淡路大震災

問3 文中の【 C 】にあてはまる国を、次の中から1つ選び、番号で答えなさい。

1. アメリカ 2. 中国 3. ドイツ 4. ソ連

問4 下線部アについて、次の「古代の都と主な道路を記した地図」を見て、その説明をした下の文の中から、正しいものを1つ選び、番号で答えなさい。



(国土交通省 関東地方整備局『関東の道路 歴史と役割』より)

1. 中ツ道、下ツ道、横大路を基準線として、長岡京の都市計画がおこなわれた。
2. 下ツ道は平城京の中央を通る朱雀大路につながっている。
3. 藤原京に都があった奈良時代、人々は古道よりも河川を利用したと考えられる。
4. 政治を立て直すため、京都から奈良に移された平安京も古道を利用して作られた。

問5 下線部イについて、この「七道」を通った人や物に関する次の文の<a>～<c>にふさわしい語句の組み合わせを、下から1つ選び、番号で答えなさい。

都へ運ばれてくる品物につけられていた木簡をみると、布や塩などの特産物を納める税である<a>を、全国各地の農民が都まで運んで来ていたことが分かる。また、東国の農民の中には防人に任命され、長い道のりを九州まで移動する者もいた。日本最古の歌集には、その防人の歌もおさめられている。8世紀中ごろ、<c>天皇が大仏づくりを命じると、銅やすず、金などが七道を通して運ばれた。

- | | | |
|----------|-----------|--------|
| 1. <a> 調 | 古今和歌集 | <c> 元明 |
| 2. <a> 庸 | 万葉集 | <c> 桓武 |
| 3. <a> 租 | 古今和歌集 | <c> 桓武 |
| 4. <a> 庸 | 古事記 | <c> 聖武 |
| 5. <a> 調 | 万葉集 | <c> 聖武 |
| 6. <a> 租 | 古事記 | <c> 元明 |

問6 下線部ウについて、1333年、現在の群馬県で挙兵した人物が、この鎌倉街道を通して鎌倉に攻め入り、幕府を滅亡させました。その人物を、次の中から一人選び、番号で答えなさい。


1. 新田義貞 2. 北条泰時 3. 後醍醐天皇 4. 足利義満

問7 下線部エについて、江戸時代の五街道に関する説明として正しいものを、次の中から1つ選び、番号で答えなさい。


1. 東海道の風景や風俗を描いた浮世絵「東海道五十三次」の作者は、本居宣長である。
2. 奥州道中（奥州街道）は、江戸から伊勢神宮にお参りする人々でにぎわった。
3. 中山道の関所は廃止され、人や物の移動が活発になり、商業の発達がうながされた。
4. 日光道中（日光街道）は、将軍や諸大名の日光東照宮への参道として重んじられた。

問8 二重下線部について、この道で大量の生糸が横浜に輸送された理由を、下のグラフから読みとれることを入れて説明しなさい。

[1865年の全国の輸出額比率] (%)



[1865年の主な輸出品目比率] (%)



(石井孝『幕末貿易史の研究』より)

3

次の文章を読んで、後の問いに答えなさい。

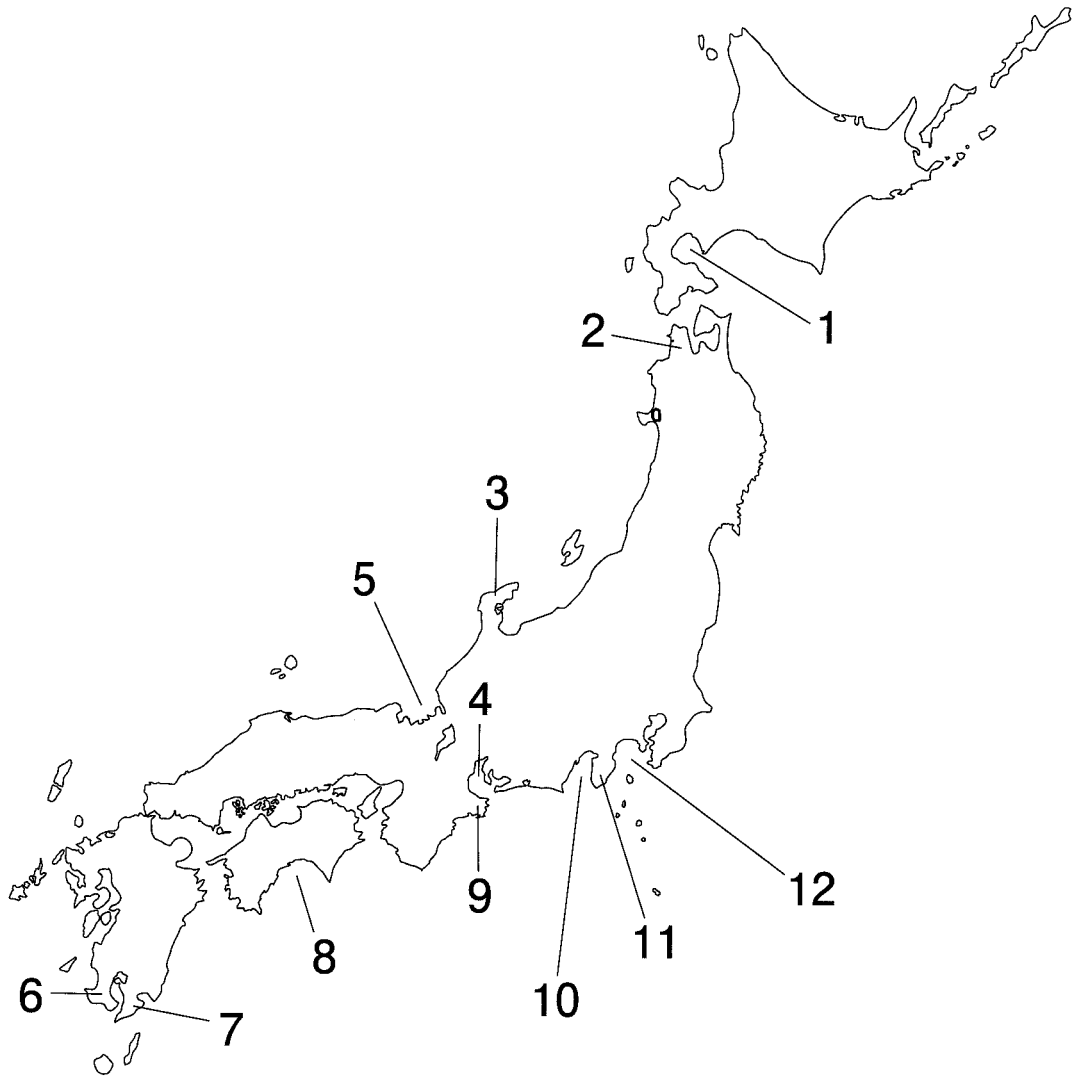
日本全国の平野、山地・山脈、河川などの地名には、昔の国名が用いられている場合が多くみられます。現在米の収穫量が日本一の ① 県に広がる越後平野は、① 県の昔の国名がその名称の由来となっています。またこの越後平野を流れる ② 川は日本一長い河川として知られていますが、長野県から流れてくるため、そのように呼ばれています。さらには ③ 県に広がる讃岐平野の名称も、③ 県の昔の国名が用いられています。

また、半島や湾にも昔の国名が用いられています。鹿児島県に位置する ④ 半島と^ア薩摩半島は、鹿児島県にあった2つの国からその名称がつけられています。また^イ志摩半島や能登半島、伊豆半島などの名称も昔の国名に由来しています。湾では相模湾、^ウ駿河湾、伊勢湾、^エ若狭湾、土佐湾などがそのような例となっています。

昔の国名が元となっている地名には、複数の国名を用いているものもあります。おもに ⑤ 県から愛知県にかけて広がっている濃尾平野は、⑤ 県南部の昔の国名である美濃と、愛知県西部の昔の国名である尾張からそれぞれ一文字ずつとった名称となっています。また ⑥ 県に位置する房総半島は、安房、上総、下総の3つの国から名づけられました。

問1 文中の ① ～ ⑥ にあてはまる語句を答えなさい。

問2 下線部ア～エについて、それぞれの位置を右の地図中から選び、番号で答えなさい。



【社会】 解答用紙(中学第3回)

1

問1	①	②	裁判
----	---	---	----

問3	1	2
----	---	---

問5	1	2
----	---	---

問7	1	2	問8
----	---	---	----

問9	1
----	---

2	
---	--

1

--

2

問1	①	②	③
④	⑤	⑥	

⑦

問2

A

B

問3

問4

問5

問6

問7

問8

2

3

問1

①

県

②

川

③

県

④

半島

⑤

県

⑥

県

問2

ア

イ

ウ

エ

受験番号

氏名

得点