

2019年度・学力考査問題

(中学第2回)

【社会】

注 意

1. 試験時間は40分です。
2. 解答用紙のみ試験終了後集めます。
3. 問題は9ページで3題あります。開始の合図で必ず確認し、そろっていない場合にはすぐに手をあげなさい。

1

次の文章を読んで、後の問いに答えなさい。

みなさんが大好きなウルトラマン、沖縄と関係が深いことを知っていますか。昨年公開した「劇場版ウルトラマンジード つなぐぜ！ 願い!!」の舞台は沖縄、主人公に味方する怪獣ゲクルシーサーは沖縄の魔よけの獣がモデルでした。

ウルトラマンと沖縄の関係は古いです。そもそもウルトラマンの出身はM 78 星雲ですが、Mは「南」の意味で、78は^ア沖縄本島の南部にある中心的な都市が由来ともいわれています。また、ウルトラマンには沖縄を題材にしたエピソードがたくさんあります。1967年から放送されたウルトラセブンの第9話に登場するチブル星人は、「頭」を意味するウチナーグチ（沖縄方言）から名付けられています。第28話「700キロを突っ走れ！」は 年の^イ沖縄の本土復帰前の米軍の存在がヒントになって作られました。武器や爆発物を積んだ米軍車両が市街地を走りかうのは沖縄では当たり前前の光景だったようです。なお、^ウ復帰後も米軍の多くが沖縄に駐留しています。

なぜウルトラマンに沖縄の言葉が出てきて、沖縄を題材にした物語があるのかというと金城哲夫さん・上原正三さんという沖縄出身の脚本家がいたからです。

上原さんは特に、^エ第二次世界大戦やその後の占領時代を経験し、大人になって怪獣の物語を書く仕事をする中で、その中に沖縄戦や当時の沖縄の問題を織り込み、世の中に訴えていきました。

戦後の沖縄では、新しい基地が必要になると、米軍による公・民有地の強制接収がおこなわれました。ウルトラセブンの第42話の「ノンマルトの使者」では、海底人ノンマルトが地球の先住民であり、我々人間が侵略者であることを描きました。これは^オ沖縄と日本やアメリカとの関係を暗示しているといわれています。

ウルトラマンの放映開始から50年以上がたっていますが、^カ沖縄の様々な問題は解決していません。まずは問題を正しく知ることが解決への第一歩だと思います。ウルトラマンをみることでそのきっかけになるのであれば、ウルトラマンが地球に来た^{カイ}甲斐もあったのではないのでしょうか。

問1 文中の にあてはまる年を、次の中から1つ選び、番号で答えなさい。

1. 1962

2. 1972

3. 1982

4. 1992

問2 下線部アについて、この都市を漢字2字で答えなさい。

問3 下線部イについて、沖縄返還協定を結んだ当時の内閣総理大臣の氏名を答えなさい。

問4 下線部ウについて、日本に米軍が駐留している根拠は、1951年に日本がアメリカと結んだ条約にあります。その条約名を答えなさい。

問5 下線部エについて、第二次世界大戦前後の出来事について、以下の問いに答えなさい。

(1) 次の文中の ① ～ ④ にあてはまる語句を答えなさい。

- A. 現在の中国の首都 ① 郊外で日本軍と中国軍が衝突し、日中戦争がはじまった。
- B. 沖縄島にアメリカ軍が上陸し、住民を巻き込んだ激しい戦闘となった。
- C. 日本軍は南 ② 鉄道の線路を爆破し、中国軍のしわざとして攻撃を開始して ② 全土を占領した。
- D. 日本はアメリカのハワイの基地を攻撃し、 ③ 領のマレー半島にも上陸して、アメリカ・ ③ とともに戦争を始めた。
- E. 日本が ④ 宣言を受け入れ降伏した。


(2) (1) の文章のA・B・C・D・Eをおこった順に並び替えた場合、1番目と3番目にくるのはどれか。A～Eの記号で答えなさい。

問6 下線部オについて、次の文中の ① ～ ③ にあてはまる語句を答えなさい。なお、 ③ については20世紀初頭まで存続した王朝名を答えなさい。

現在の沖縄はかつて ① 王国と呼ばれており、室町時代にはアジアの国々との貿易で栄えていたが、江戸時代の初めに ② 藩によって征服された。 ② 藩は ① 王国がそれまでおこなっていた中国との貿易を、明が ③ に変わっても続けさせ、その利益の多くを取り上げた。

問7 下線部カについて、沖縄が抱える問題の1つに基地問題があります。基地問題に関する以下の問いに答えなさい。

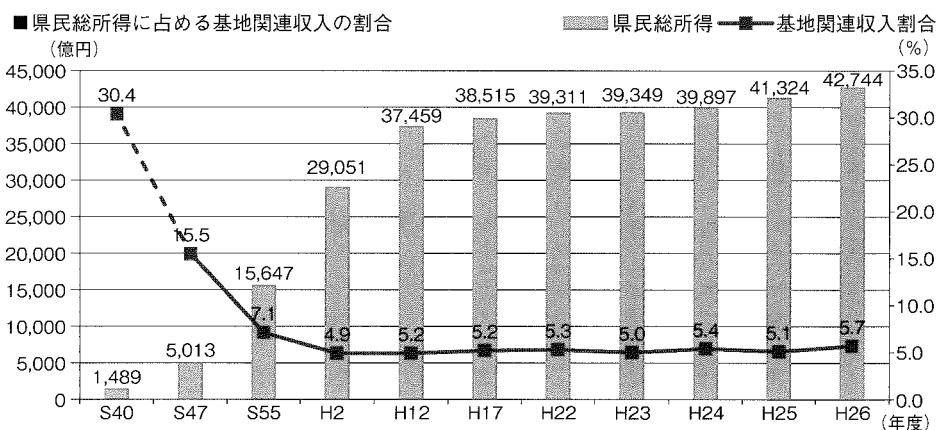
(1) 次のグラフは本土（沖縄県を除く全国）と沖縄県の米軍施設がある土地の種類別の割合を示したものです。この違いを生むことになった出来事を、本文中の一部を抜き出して答えなさい。



出典：「沖縄から伝えたい。米軍基地の話。Q&A Book」

(2) 次のグラフⅠ～Ⅲから読み取れることとして正しい文を、次のページの1～4の中から1つ選び、番号で答えなさい。

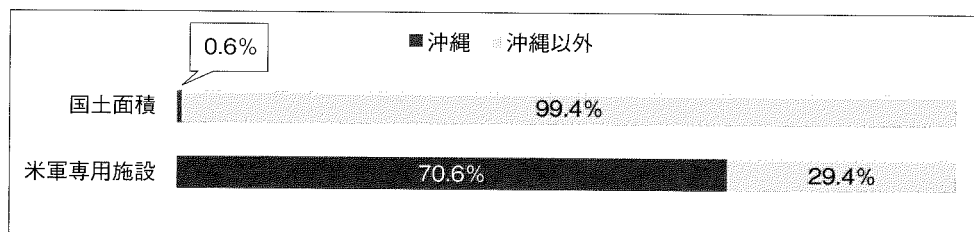
Ⅰ 沖縄県の県民総所得に占める基地関連収入の割合



Ⅱ 「返還された駐留軍用地跡地の経済効果と雇用人数」

既返還 駐留軍用地跡地	直接経済効果 (億円/年)			雇用者数 (人)		
	返還前	返還後	倍率	返還前	返還後	倍率
牧港住宅地区	52	1,634	32倍	168	15,560	93倍
小禄金城地区	34	489	14倍	159	4,636	29倍
桑江・北前地区	3	336	108倍	0	3,368	皆増
合計	89	2,459	28倍	327	23,564	72倍

Ⅲ 米軍専用施設の負担状況



出典：「沖縄から伝えたい。米軍基地の話。Q & A B o o k」

1. 沖縄は昭和 40 年以來変わらず、基地に依存した経済なので、基地を返還すると住民に悪影響が出る。
2. 国土面積の 0.6% に過ぎない沖縄に、全国の米軍専用施設の約 30% が集中している。
3. 本土復帰前に比べて基地関連収入の割合は減少しており、返還後の跡地利用が進めば、経済効果が上がることが見込まれる。
4. 県民総所得は不況で減り続けているので、基地を返還すると基地収入が減り、より悪化すると考えられる。

(3) 日本政府は「世界一危険な飛行場」といわれている宜野湾市の飛行場を閉鎖し、その代替りの施設を名護市に建設することを計画しています。閉鎖が予定されている宜野湾市の飛行場名と、代わりに建設が予定されている地区の地名を、解答欄に合うようにそれぞれ答えなさい。

問1 地図中のア～エの地名を解答欄に合うように答えなさい。

問2 地図中の1～6は各県の県庁所在地を示しています。このうち、都市名が県名と同じではないものが2つあります。その都市の番号を答え、県名と都市名を答えなさい。

問3 地図中のA・B・Cについて述べた次の文中の ① ～ ③ にあてはまる語句を答えなさい。

Aは ① 海峡の海底につくられた本州と北海道を結ぶ青函トンネルとよばれる海底トンネルで、1988年に開通し、2016年からは北海道新幹線が通っています。

Bは ② とよばれる世界自然遺産の登録地です。ここにはブナの原生林が広がっています。

Cの一带は山地の谷が海に沈んだことでできた ③ とよばれる海岸地形がみられます。この地域は、2011年におきた東北地方太平洋沖地震の際に津波による大きな被害を受けました。

問4 次のD・E・Fの統計はある農作物の県別の生産量を示したものです。その作物を下の作物群からそれぞれ1つずつ選び、番号で答えなさい。

また、表中のX・Y・Zには東北地方のある県があてはまります。その県名を答えなさい。

D 全国生産量 765,000 トン

X 59%	長野 19	Y 6	岩手 6	Z 秋田		その他 3
				▼	▼	

農林水産統計：2017年

E 全国生産量 19,800 トン

Y 76%	北海道 8	その他 16
----------	----------	-----------

農林水産統計：2016年

F 全国生産量 124,900 トン

山梨 31%	Z 23	長野 12	和歌山 8	Y 7	その他 19
-----------	---------	----------	----------	--------	-----------

農林水産統計：2017年

作物群

- | | | |
|--------|----------|--------|
| 1. もも | 2. さくらんぼ | 3. みかん |
| 4. いちご | 5. ぶどう | 6. りんご |

3

次の文章を読んで、後の問いに答えなさい。

ちょうど100年前の1919年、前の年から始まったスペイン風邪^{かぜ}の世界的な流行のため多くの著名人が亡くなっています。スペイン風邪はもともとはアメリカで発症したA型のインフルエンザですが、当時はア第一次世界大戦中のため、中立国であったスペインから情報が発信されたので、このような名称になったといわれています。

1919年2月、スペイン風邪によって58歳の生涯を終えたのが山川(大山)捨松^{すてまつ}です。彼女は1860年にイ現在の福島県で生まれ、1871年、①を大使とする、a日米修好通商条約の改正を目的とした使節団に同行した女子留学生の1人です。本名はさき(咲子)でしたが、留学にあたって、母親が娘のことは一度「捨て」て、無事に帰国することを「待つ(松)」として改名させたといえます。偶然にも彼女が発出した翌日、後に彼女の夫となる大山巖^{いわ}も留学のため、ジュネーブに向けて出発しています。大山は西南戦争をおこした、②のいここにあたる人物です。大山は1842年に生まれていますが、時期的には、老中③による、b天保の改革がおこなわれていたころです。

捨松が帰国したのはウ1882年、翌年に大山との結婚披露宴^{ひろうえん}を、欧化政策の象徴ともいえる、日比谷に建てられた④でおこないました。大山は先妻と死別していましたが、先妻との間に3人、捨松との間に4人の子どもに恵まれています。捨松にとっては義理の娘にあたる長女が、エ徳富蘆花の小説のモデルとされ、小説の中で捨松は鬼のような女性として描かれてしまい、風評被害^{ふうひょうひがい}に苦しんだといわれます。作者が謝罪したのは、捨松の死の直前であったそうです。捨松は政府高官の妻として、女性の看護師育成や留学仲間の⑤が創設した女子英学塾への援助など、女子教育の充実に力を注いだ生涯でした。

問1 文中の①～⑤にあてはまる語句・人名を、次の中からそれぞれ1つずつ選び、番号で答えなさい。

- | | | | |
|---------|---------|----------|---------|
| 1. 伊藤博文 | 2. 岩倉具視 | 3. 大久保利通 | 4. 開誠館 |
| 5. 西郷隆盛 | 6. 津田梅子 | 7. 松平定信 | 8. 水野忠邦 |
| 9. 柳原愛子 | 10. 鹿鳴館 | | |

問2 下線部アについて、第一次世界大戦中のできごとに関する説明として誤っているものを、次の中から1つ選び、番号で答えなさい。

1. ロシアがドイツ・フランスとともに、遼東半島の返還を要求した。
2. 三国協商（連合国）の中心であるロシアで、革命がおこった。
3. ドイツが潜水艦を利用して、無差別の攻撃をおこなった。
4. 日本はアジアやアメリカへの輸出を増やしたので、好景気となった。

問3 下線部イについて、福島県に関する説明を古い方から並べた場合に正しいものを、下の1～6の中から1つ選び、番号で答えなさい。

- I 会津藩は戊辰戦争で旧幕府軍の中心的存在となり、会津若松城が落城するまで、新政府軍と戦った。
- II この一帯は大宝律令が施行された時に、陸奥国に編入された。
- III 豊臣秀吉の東北平定により、伊達政宗が領有していた会津は、蒲生氏郷に譲られた。

1. I → II → III
2. I → III → II
3. II → I → III
4. II → III → I
5. III → I → II
6. III → II → I

問4 下線部ウについて、1882年のできごととして誤っているものを、次の中から1つ選び、番号で答えなさい。

1. 大隈重信が立憲改進黨を結成した。
2. 板垣退助が襲われ、負傷した。
3. 日本銀行が創設された。
4. 日清戦争がはじまった。

問5 下線部エについて、徳富蘆花の小説を次の中から1つ選び、番号で答えなさい。

1. 『解体新書』
2. 『たけくらべ』
3. 『坊っちゃん』
4. 『不如帰』

問6 二重下線部 a について、改正すべき内容の1つは領事裁判権の撤廃でした。領事裁判権を認めていることでどのような問題がおこったか、1886年に和歌山県沖で発生した事件を具体例として、事件名をあげて説明しなさい。

問7 二重下線部bについて、改革は天保の大ききんに対応したものでした。このききを理由としてある人物が大坂で反乱をおこしました。誰がどのようなことに対して怒りを感じながら挙兵したのか、下の決意文から読み取れることを参考に説明しなさい。

決意文

このごろは米価が高くなっているにもかかわらず、大坂町奉行や役人たちはわがままな政治をしている。その1つに江戸へは米を送るけれど、天皇のいる京都には米を送らず、少しの米を買いに来た者を処罰さえしている。また大坂市内の商人ばかりを大切に、人民を苦しめているので、まずは役人たちを討伐し、次にいばっている裕福な町人を討とうと考えている。

※決意文はわかりやすく書き改めています。

市	県	市名	県名	番号
---	---	----	----	----

問3	①	海峡	②		③
問4	D	E	F		
	X	県 Y		県 Z	県

2

--

問1	①	②	③	④	⑤
問2		問3		問4	
				問5	

3

--

得点	
----	--

受験番号	氏名
------	----

3