

2019年度・学力考査問題

(中学第3回)

【社会】

注 意

1. 試験時間は40分です。
2. 解答用紙のみ試験終了後集めます。
3. 問題は10ページで3題あります。開始の合図で必ず確認し、そろっていない場合にはすぐに手をあげなさい。

1

次の文章を読んで、後の問いに答えなさい。

近年、日本を訪れる外国人観光客が増えています。来年にはア東京オリンピック・パラリンピックが開催されることもあり、この増加傾向は今後もしばらく続くでしょう。政府は2016年にイ内閣総理大臣を議長とする会議で、「明日の日本を支える観光ビジョン」を策定しました。このビジョンは、外国人の旅行者数や旅行消費額を増やすため、魅力的で快適な「世界が訪れたい日本」を作ろうとしています。

しかし、忘れてはならないのは、日本がウ自然災害の多い国であるということです。この点について、「観光ビジョン」では、「防犯、防災等に資する情報を外国語で提供」の一文の記載のみで、防災への意識は極めて低いものとなっています。

防災情報を「外国語で提供」しただけで避難を支援したことになるのでしょうか。避難生活での宗教面の配慮などは必要ないのでしょうか。例えば、エイスラム教徒は、豚肉など食べられないものがありますし、礼拝のスペースを必要とします。これについてオ憲法第25条やカ憲法第20条の趣旨を考えるならば、災害時であっても性質上認められることはできる限り外国人にも保障すべきですし、キさまざまな文化・習慣・信条を持つ人々が共生できる環境を作るべきでしょう。

この点、ク外国人への配慮を確実なものとし、安心して避難できるようにするためには、外国人の生活や文化を理解している人のサポートが必要です。ケ地方公共団体は、外国人の避難生活に関するプランをあらかじめ策定しておくべきですが、その中で、日本に定住し生活している外国人などの協力や参加を呼びかけ、その意見を反映させることも必要ではないでしょうか。現状では地方公共団体の外国人住民への施策は地域差が大きいです。しかし、「観光先進国」となればどこにどのような外国人が訪れるか分からない以上、政府は地方公共団体任せではなく、外国人に関する施策を全国規模でバックアップする必要があります。

ここ数年、コ地球温暖化による異常気象ともいえる大雨による水害や、比較的キ大きな地震が相次いでいます。大規模な災害が発生する可能性は常にあり、外国人観光客が被災する可能性も十分にあります。想定外という言い訳をしないで済むよう、日頃から外国人の防災活動を充実させ、訪日外国人が安心できる環境を整えておくべきではないでしょうか。それが本当の意味で「世界が訪れたい日本」になるということだと思います。

問1 下線部アについて、前回、東京でオリンピックがおこなわれた頃の日本についての記述として誤っているものを、次の中から1つ選び、番号で答えなさい。

1. 東海道新幹線や首都高速道路など、交通網の整備が進んだ。
2. 国民所得倍増計画のもと、政府主導で日本経済が大きく成長した。
3. 都市部での過密、農村部における過疎が進んだ。
4. 朝鮮戦争がおり、アメリカ軍向けの石油の輸出で好景気となった。

問2 下線部イについて、内閣総理大臣に関する記述として誤っているものを、次の中から1つ選び、番号で答えなさい。

1. 内閣総理大臣は、衆議院議員の中から、国会の議決によって任命される。
2. 内閣総理大臣は、内閣を代表して予算案や法律案を国会に提出する。
3. 内閣総理大臣は、国务大臣を任命したり罷免したりする権限を有する。
4. 内閣総理大臣は、省庁などの行政各部を指揮監督する。

問3 下線部ウについて、日本では自然災害を防ぐため、集落や住居にさまざまな工夫をしてきました。以下に挙げる特徴を持つ住居について後の問いに答えなさい。

<特徴>

- ・敷地の周囲に石積みの^{へい}塀を巡らせる。
- ・屋敷林を植える。
- ・^{のき}軒を低く構える。
- ・屋根瓦を^{しっくい}漆喰でしっかりと固定する。



- (1) この特徴を持つ住居が多く見られる都道府県を答えなさい。
- (2) この住居がどのような自然現象による被害を防ごうとしているか答えなさい。

問4 下線部エについて、イスラム教徒が食べることを許されている食品をなんというか、次の中から1つ選び、番号で答えなさい。

1. グルテンフリー食品
2. ハラル食品
3. チルド食品
4. オーガニック食品

問5 下線部オについて、以下の憲法第25条1項の条文の ・ にあてはまる語句を答えなさい。

すべて国民は、 で な最低限度の生活を営む権利を有する。

問6 下線部カについて、憲法第20条で保障されていることを、次の中から1つ選び、番号で答えなさい。

1. 宗教的な活動をおこなう自由
2. 財産を好きなように持つ自由
3. 国籍を離脱する自由
4. 良い環境で生活する自由

問7 下線部キについて、一般的にさまざまな文化・習慣・信条を持つ人々が共生できる環境を作る方法として誤っているものを、次の中から1つ選び、番号で答えなさい。

1. 自分の文化のほうが優れているとして、他の文化を過小に評価する。
2. 民族特有の食文化や服飾などを公的な場においても認める。
3. 多言語放送や多言語教育などを公的な制度として整える。
4. すべての文化はそれぞれに固有の価値があると理解する。

問8 下線部クについて、外国人を含め、すべての人にとって使いやすいような製品・施設などをデザインする考え方を何というか、次の中から1つ選び、番号で答えなさい。

- | | |
|---------------|---------------|
| 1. グラフィックデザイン | 2. キャリアデザイン |
| 3. ライフデザイン | 4. ユニバーサルデザイン |

問9 下線部ケについて、地方公共団体のしくみに関する記述として正しいものを、次の中から1つ選び、番号で答えなさい。

- | |
|------------------------------------|
| 1. 地方裁判所の裁判官は、首長によって指名され、天皇に任命される。 |
| 2. 首長は、内閣総理大臣と異なり、住民の選挙により直接選ばれる。 |
| 3. 地方議会は国会と同じように、二院制を採用している。 |
| 4. 首長は地方議会の解散や議員の解職を請求することができる。 |

問10 下線部コについて、地球温暖化に関する以下の問いに答えなさい。

(1) 2017年6月、トランプ大統領は、アメリカがパリ協定から離脱することを表明しました。この時の、パリ協定に対するトランプ大統領の主張として誤っているものを、次の中から1つ選び、番号で答えなさい。

- | |
|--|
| 1. 中国の温室効果ガスの排出増が認められており、非常に不公平である。 |
| 2. 途上国の温暖化対策支援により、アメリカの経済的な富が海外に流出する。 |
| 3. この協定はすべての国が温暖化対策をおこなうという、歴史的価値のある合意である。 |
| 4. アメリカにとって公正な協定に変えるか、新しい枠組みを作る必要がある。 |

(2) 地球温暖化により、日本でもデング熱の感染リスクが増えるという指摘がありますが、それはなぜか、下の文を参考にして簡潔に説明しなさい。

※デング熱…主に熱帯地域で流行する病気で、デングウイルスを持つヒトスジシマカなどの蚊に刺されることで感染する。

※ヒトスジシマカ…一般にヤブカとも呼ばれる。発育に最適な気温は25～30℃で、成虫のまま冬を越すことはできず、適度にたまった水際に産み付けられた卵で越冬する。

問11 下線部サについて、右の資料を参考にして、以下の問いに答えなさい。

(1) 次に挙げる地震のうち、プレート間地震であると考えられるものはどれか、1つ選び番号で答えなさい。

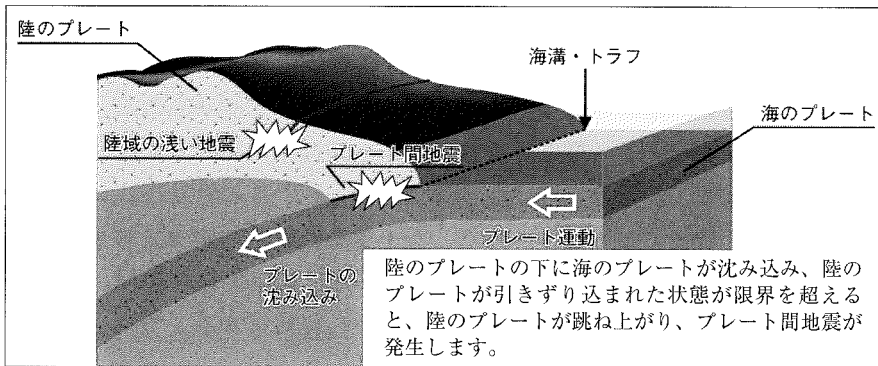
- | |
|---|
| 1. 東北地方太平洋沖地震 (2011年 / M 9.0 / 最大震度7 / 震源の深さ24km) |
| 2. 熊本地震 (2016年 / M 7.3 / 最大震度7 / 震源の深さ12km) |
| 3. 大阪府北部地震 (2018年 / M 6.1 / 最大震度6弱 / 震源の深さ13km) |

(2) 資料2の地図中の太平洋プレート (A) とフィリピン海プレート (B) についての説明として正しいものを、それぞれ次の中から選び、番号で答えなさい。

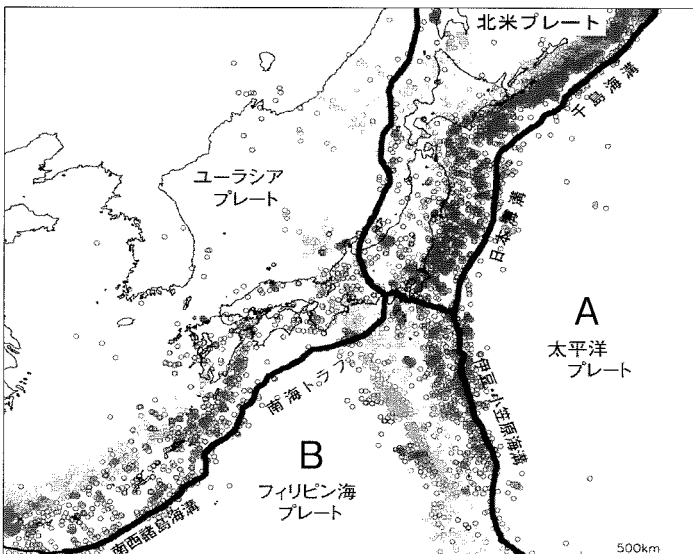
※同じ番号を選んでかまいません。

1. 海のプレートで、北東に動いている。
2. 陸のプレートで、北東に動いている。
3. 海のプレートで、北西に動いている。
4. 陸のプレートで、北西に動いている。
5. 海のプレートで、南東に動いている。
6. 陸のプレートで、南西に動いている。

<資料1 地震がおこるしくみ>



<資料2 プレートと震源地>



※地図中の○は震央（震源）の位置を示しています。（集中しているところは濃くなっています）

※地図中の太い線はプレートの境界のおおよその位置を示しています。

(資料出典：政府地震調査研究推進本部『地震がわかる!』※一部加工しています)

2

次の文章を読んで、後の問いに答えなさい。

今年はラグビーのワールドカップが日本で開催されます。ラグビーはイギリス（正確にはイングランド）で始まったとされています。ここではイギリスと日本の関わり
の歴史を見てみましょう。

イギリスでイングランド王国が成立したのは、^ア927年とされています。なお、日本とイギリスの交流が始まるのは、1600年、オランダ船リーフデ号が漂流して九州に流れ着いてからです。乗組員のイギリス人ウィリアム＝アダムズは、1603年に征夷大将軍になる ① によって幕府の家臣である旗本として召しかかえられました。また、1613年からイギリスと日本の間で交易が始まりました。イギリスは10年後に自ら商館を閉じて交易をやめますが、 ② は1624年に、イポルトガルは1639年に幕府から来航を禁止されます。

19世紀になると、イギリスはたびたび日本の港に押し寄せて、貿易を要求してきました。下田総領事であったアメリカ人 ③ の要求で日米修好通商条約が結ばれると、イギリスも同様の通商条約を結んで、日本との貿易を認められました。特に1859年に貿易が始まったころ、最も貿易額が多かった国はイギリスでした。

通商条約には不平等な点がありました。1886年にイギリス人船長が日本人乗客を救助しなかった疑いで裁判になる事件もあり、不平等条約改正の声はますます高まりました。やがて1894年、外務大臣 ④ は日英通商航海条約を結び、条約の不平等な点の1つを改正することができました。また、貿易をする上で不平等な点も1911年に改正されました。

1902年、日英同盟が結ばれました。なお1914年に始まった第一次世界大戦では、日本がイギリスを支援するという名目で、イギリスの対戦国である ⑤ が中国においた基地や南洋諸島を占領しました。第一次世界大戦後の講和会議で ⑥ 条約が結ばれました。その時、平和を守るための組織として国際連盟がつけられ、日本はイギリスとともに常任理事国に選ばれました。

昭和になると、日本は中国に勢力を広めようとして軍を送り、国際的にも孤立を深めてゆきました。第二次世界大戦が始まると、イギリスと敵対関係にあった ⑦ と同盟を結んだことで、日本はイギリスと対立することになりました。太平洋戦争開始時には、日本はアメリカの基地があるハワイの ⑧ を奇襲攻撃しましたが、同時にイギリス領のマレー半島にも上陸し、イギリスと対戦することになりました。

この戦争は1945年に終わり、戦後、1951年に ⑨ 平和条約が結ばれたことで、日英の国交も回復し現在も交流が盛んです。

問1 文中の ① ～ ⑧ にあてはまる語句・人名を答えなさい。

※ ② ・ ⑤ は国名を答えなさい。

問2 下線部アについて、927年ころの日本の状況を説明した次の文章の ・ にあてはまる語句・人名を答えなさい。

927年ころの日本は、醍醐天皇による政治がおこなわれていました。しかし、その3年後、醍醐天皇が皇位をゆずると、幼少の天皇に代わって として藤原氏が権力をにぎる政治が復活しました。また、約10年後には、関東で が新皇と自称して反乱をおこしました。

問3 下線部イについて、ポルトガルの来航を禁止した理由を説明した次の文章の ・ にあてはまる語句を答えなさい。

ポルトガルは16世紀に来航してから、 の布教を進めていました。1637年に信者が をおこしたことで、2年後に幕府は の布教に熱心なポルトガルの来航を禁止しました。

問4 下線部ウについて、以下の問いに答えなさい。

(1) イギリスが多くの工業製品を海外に輸出するようになったのは、18世紀に世界に先がけて工業の機械化などを意味する を達成したからです。
 にあてはまる語句を漢字4文字で答えなさい。

(2) 次のグラフ中の ・ にあてはまる品物の組み合わせを下のの中から1つ選び、番号で答えなさい。

日本から各国への輸出品の割合 (1865年)

生糸 79.4%	茶 10.5%	蚕卵紙 3.9%	その他 6.2%
-------------	------------	-------------	-------------

日本への各国からの輸入品の割合 (1865年)

<input type="text" value="X"/> 40.3%	<input type="text" value="Y"/> 33.5%	武器 7.0%	艦船 6.3%	綿糸 5.8%	その他 7.1%
---	---	------------	------------	------------	-------------

- | | |
|-----------------------|-----------------------|
| 1. X - 生糸 Y - 茶 | 2. X - 生糸 Y - 鉄鉱石 |
| 3. X - 毛織物 Y - 鉄鉱石 | 4. X - 毛織物 Y - 綿織物 |
| 5. X - 綿織物 Y - 絹織物 | |

問5 下線部エについて、次の3つのできごとを古い方から並べた場合に正しいものを、下の1～6の中から1つ選び、番号で答えなさい。

- I 柳条湖事件をきっかけに満州事変がおこった。
- II 盧溝橋事件をきっかけに日中戦争がおこった。
- III 日本が国際連盟を脱退した。

1. I→II→III 2. I→III→II 3. II→I→III 4. II→III→I
5. III→I→II 6. III→II→I

問6 二重下線部aについて、貿易をする上で不平等だった点は1911年にどのように改正されたか答えなさい。

問7 二重下線部bについて、次の日英同盟（第1次）の条文を参考にして、1904年～1905年に、日英同盟がどのような形で適用されたかを、戦争の名前をあげて説明しなさい。

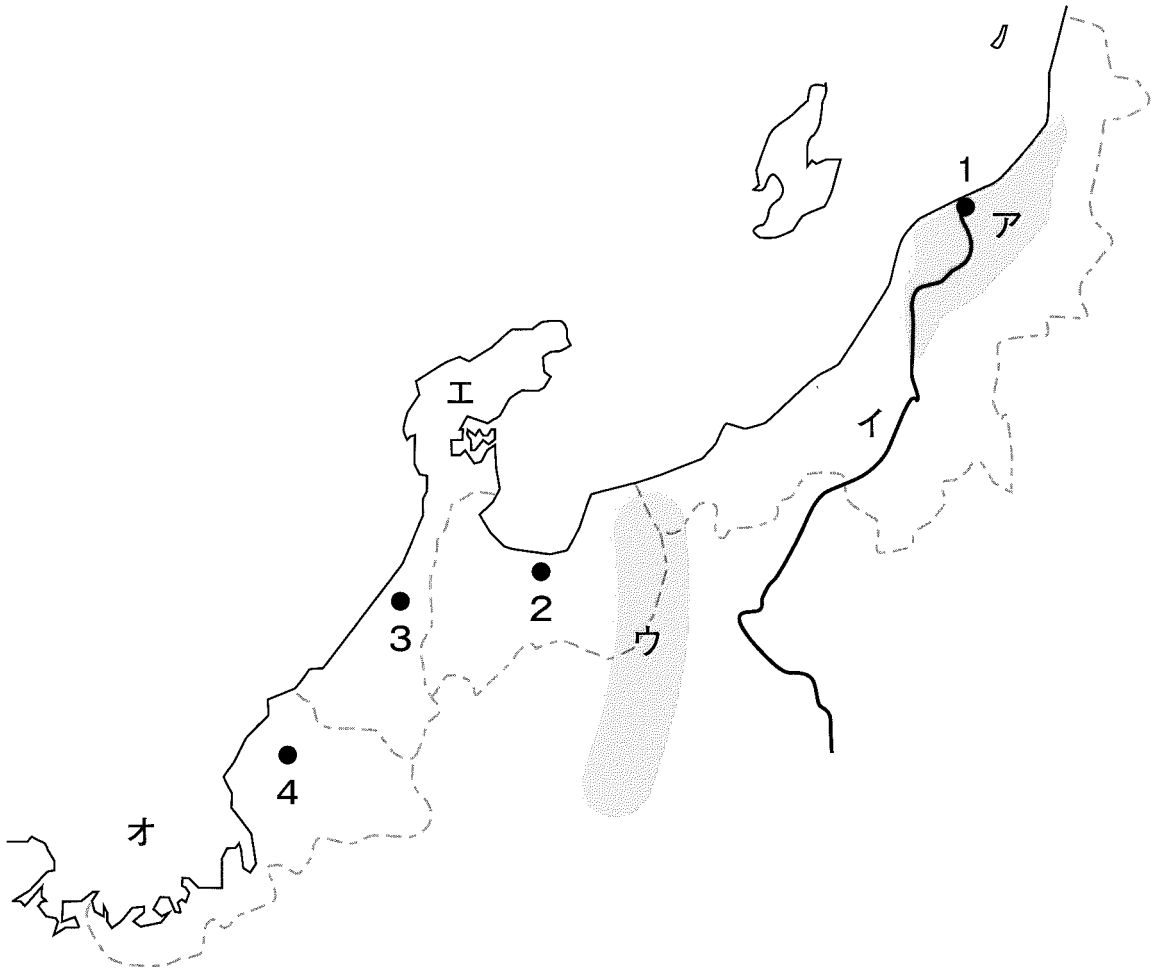
- 第2条 もし日本またはイギリスの一方が利益を守る上で、別の国と戦争をおこなった時は、もう一方の国は中立を守る。
- 第3条 上記の場合において、もし別の数カ国が日本またはイギリスに対して交戦に加わった時は、もう一方の国は軍を送って協同で戦闘に当たる。

※条文はわかりやすく書き改めています。

このページには、問題がありません。

3

次の地図とこの地域の説明文について、後の問いに答えなさい。



説明文

中部地方の日本海側は 地方とよばれています。この地域は日本を代表する豪雪地帯であり、冬には農作業がむずかしいので、多くは夏に1回だけ米作りをおこなう水田 地帯となっています。なかでも、 県は全国一の米の生産県となっています。

また、冬の農作業が困難なことから、副業として伝統工業や地場産業が発達し、輪島の 、鯖江の 、燕の などが知られています。

しかし、近年は農業だけでなく、このような伝統工業においても高齢化やあとつぎの不足など多くの問題が生じています。

問1 地図中のア～オの地名を解答欄に合うように答えなさい。

問2 地図中の1～4は各県の県庁所在地を示しています。このうち、都市名が県名と同じではないものが1つあります。その都市の番号を答え、県名と都市名を答えなさい。

問3 説明文中の ～ にあてはまる語句を答えなさい。

問4 説明文中の ～ にあてはまる伝統工業や地場産業の組み合わせとして正しいものを、次の中から1つ選び、番号で答えなさい。

- | | | |
|------------|-------------|---------|
| 1. A - 絹織物 | B - 陶磁器 | C - 木工品 |
| 2. A - 漆器 | B - 陶磁器 | C - 洋食器 |
| 3. A - 絹織物 | B - 陶磁器 | C - 洋食器 |
| 4. A - 漆器 | B - メガネフレーム | C - 木工品 |
| 5. A - 絹織物 | B - メガネフレーム | C - 木工品 |
| 6. A - 漆器 | B - メガネフレーム | C - 洋食器 |

【社会】

解答用紙(中学第3回)

1

問1		問2		問3	(1)	(2)
問4		問5	①	②		
問6		問7		問8		問9
問10	(1)					
	(2)					
問11	(1)	(2)	A	B		

1

--

2

問1	①	②	③
	④	⑤	⑥
	⑦	⑧	
問2	あ	い	

問3

う	え
---	---

問4

(1)		(2)
-----	--	-----

問5

	問6
--	----

問7

--

2	
---	--

問1

ア	平野	イ	川	ウ	山脈
---	----	---	---	---	----

問2

エ	半島	オ	湾
---	----	---	---

問3

番号	県名	都市	市
----	----	----	---

問4

①	地方	②	水田	③	地帯	県
---	----	---	----	---	----	---

問5

--

3	
---	--

3

受験番号		氏名	
------	--	----	--

得点	
----	--