

2022年度・学力考査問題

(中学第1回)

【社会】

注 意

1. 試験時間は40分です。
2. 答えはすべて解答用紙にはっきりと記入下さい。
3. 解答用紙のみ試験終了後集めます。
4. 問題は12ページで3題あります。開始の合図で必ず確認し、そろっていない場合にはすぐに手をあげ下さい。

1

A～Eの文について、後の問いに答えなさい。

A：近江国（現在の^ア滋賀県）に生まれたとされる は聖徳太子の命を受け、隋（現在の^カ中国）に渡り、隋の皇帝に謁見し、日本と中国の対等な外交を求めました。

B：日向国（現在の^イ宮崎県）に生まれたとされる伊東マンショら4人の少年は九州のキリシタン大名の命を受け、キインドなどを経て、イタリアを訪れ、ローマ教皇に謁見しました。帰国した際には がバテレン追放令を出した後であったため、それぞれ不遇な人生を歩むこととなりました。

C：豊前国（現在の^ウ大分県）中津藩の武士の子として生まれた は1860年、勝海舟らと共に^ウアメリカに渡りました。明治時代になり平民となった彼は教育に力を注ぎ、『学問のすゝめ』などを発表しました。

D：^ケドイツに生まれたシーボルトは1823年に現在の^エ長崎県の出島に医師として来日しました。その後、シーボルトは帰国する際に、 が測量・作成した日本地図を持ち出そうとしたことにより、国外追放処分となりましたが、開国後、再来日しています。

E：^オ福島県に生まれた は医師として伝染病の研究で多くの成果をあげました。晩年は黄熱病の研究でアフリカの^コガーナに渡り、その地で黄熱病にかかり亡くなりました。

問1 文中の ～ にあてはまる人名を答えなさい。

問2 下線部アについて、滋賀県の県庁所在地である大津市は近年、京都市や大阪市などで働く人のベッドタウンとして住宅が多く造成されている。大津市の昼夜間人口比率（2015年）として正しいものを、下の中から1つ選び、番号で答えなさい。

$$\text{昼夜間人口比率} = \text{昼間人口} \div \text{夜間人口} \times 100$$

$$\text{昼間人口} = (\text{その市に}) \text{住んでいる人数} + \text{働きに来る人数} - \text{働きに出ていく人数}$$

$$\text{夜間人口} = (\text{その市に}) \text{住んでいる人数}$$

1. 91.1%

2. 101.1%

3. 111.1%

4. 121.1%

問3 下線部イについて、宮崎県は宮崎牛や宮崎地鶏などが有名である。以下の表は2019年の宮崎県、北海道、新潟県、山梨県の農業産出額とそれに占めるおもな農畜産物の割合である。宮崎県のを次の中から選び、番号で答えなさい。

	農業産出額	米	野菜	果実	畜産
1	1兆2593億円	8.9%	18.0%	0.4%	58.3%
2	3429億円	5.2%	19.5%	3.8%	64.4%
3	953億円	6.6%	11.8%	66.0%	8.1%
4	2462億円	58.7%	14.2%	3.1%	19.4%

問4 下線部ウについて、大分県は再生可能エネルギーである地熱発電による発電量が日本一となっている。再生可能エネルギーとして誤っているものを、次の中から1つ選び、番号で答えなさい。

1. 水力発電 2. 太陽光発電 3. 原子力発電 4. 風力発電

問5 下線部エについて、以下の会話文中の ⑥ ・ ⑦ にあてはまる語句の組み合わせとして正しいものを下の中から1つ選び、番号で答えなさい。

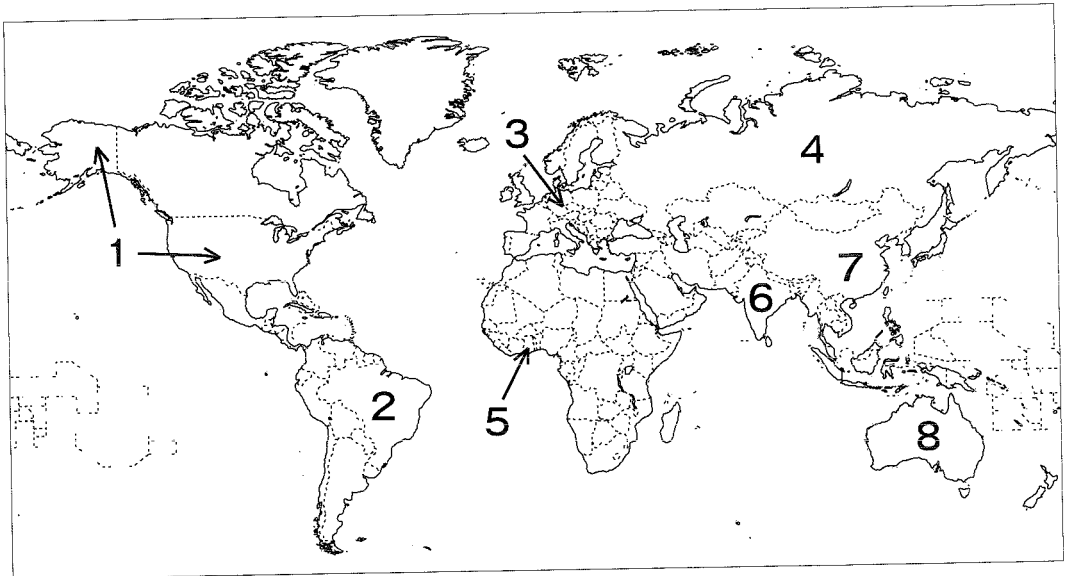
生徒：有明海では古くから干拓たくがおこなわれていたのですね。
 先生：そうですね、江戸時代から本格的に干拓が始まり、現在でも干拓事業は続けられています。
 生徒：長崎県の ⑥ の干拓事業ですね。
 先生：そうです、1989年から工事が始まり、1997年に堤防ていの水門が閉められました。その10年後に完工式がおこなわれています。
 生徒：しかし、干拓をおこなったことで有明海の生態系に変化があったと聞きました。
 先生：有明海に面する県で全国の約50%を養殖しよくしている ⑦ が不漁となり干拓との関連性を指摘する声もあります。一方で干拓をおこなったことにより水害が減ったとの報告もあります。
 生徒：人間が自然をコントロールすることは本当に難しいのですね。

1. ⑥：児島湾 ⑦：うなぎ 2. ⑥：児島湾 ⑦：のり
 3. ⑥：諫早湾 ⑦：うなぎ 4. ⑥：諫早湾 ⑦：のり

問6 下線部オについて、1970～80年代にかけて東北自動車道が整備され、京浜工業地帯に近い県から工場の移転が順次進み、工業の発展が進んだ。以下の1～4は東北自動車道沿いに位置する栃木県・福島県・宮城県・岩手県の2017年の工業製品出荷額である。福島県のを次の中から選び、番号で答えなさい。

1. 2兆5260億円 2. 4兆4700億円 3. 5兆1200億円 4. 9兆2330億円

問7 二重下線部カ～コの現在の国の位置を下の世界地図中1～8の中からそれぞれ選び、番号で答えなさい。



このページには問題がありません。

2

次の会話文を読んで、後の問いに答えなさい。

先生：新型コロナウイルスの世界的な感染拡大は、私たちの生活に大きな影響^{えいきょう}を与え^{あた}ましたね。

桐子：感染の拡大を防ぐために、学校が一時的に休校となり、会社勤めの方は時差出勤や、在宅勤務に切り替^かわるなどの変化がありましたよね。

光男：そのような暮らしの変化の中で、注意をしなければならない点があるといます。そのひとつは、感染防止のための政策によって、日本国憲法で規定されている人権保障がおびやかされてしまわないかということです。例えば、《 A 》などが考えられると思います。

先生：そうですね。また、憲法第 25 条には 権が規定されており、すべての国民が健康で文化的な最低限度の生活を営む権利を有するということが記されています。社会が不安定である時こそ、国民一人ひとりが安心して暮らしていけるための政策が求められるでしょう。

桐子：また、こうした社会不安が増^あっていくと、私^{わたし}たちを混乱させるような情報が発信されることもありますよね。私^{わたし}たちは、さまざまな情報とどのように向き合^あっていけばよいのでしょうか。

先生：とてもよい視点です。みなさんは普段、どのような手段で情報を得ているのでしょうか。

桐子：私はテレビです。朝と夕方には必ずニュース番組を観ています。

光男：僕はインターネットが多いかなあ。しかし、ひとつの出来事に関して、記事の数があまりにも多く、どれが正しいのか判断ができません。

先生：インターネット上の情報は、《 B 》からこそ、情報の受け手が多角的な視点を持って情報を取捨選択^{たく}してゆくことが必要です。こうした情報を選び取る能力のことを といいます。この能力を養うためには、《 C 》ことで自分なりの考えを持つという姿勢が大切です。

桐子：そうそう、去年は 院議員の総選挙がありましたよね。社会不安の中で、政治参加^{せいじ}に関心を寄せた人も多かったのではないかと思います。私にはまだ選挙権^{せんきょ}がありませんが、日本の政治体制や経済の仕組みを勉強して行く中で、よりよい未来について考えていきたいと思っています。

問1 文中の ～ にあてはまる語句を答えなさい。

問2 文中の《 A 》に入る文として正しいものを、次の中から1つ選び、番号で答えなさい。

1. 連休中の外出規制を要請することで、黙秘権を十分に行使できなくなる可能性があること
2. 小売店の休業や営業時間短縮の要請が続くことで、職業を選び、営業をする自由を十分に行使できなくなる可能性があること
3. 保健所が、個人の行動履歴や、感染症陽性者との接触の有無などを開示することは、環境権の観点から問題視される可能性があること
4. 感染症陽性者に対して、特定の医療機関に一定期間滞在をさせ、容態を観察していくことは、著作権を十分に行使できなくなる可能性があること

問3 文中の《 B 》に入る文として正しいものを、次の中から1つ選び、番号で答えなさい。

1. 改ざんされないデジタルデータなので、常に正確であるという特徴がある
2. 書籍の出版と同様に全て第三者の審査を経て発信されるという特徴がある
3. 誤った内容で書きこまれることがないという特徴がある
4. 匿名でも自由に発信することができるという特徴がある

問4 文中の《 C 》に入る文として誤っているものを、次の中から1つ選び、番号で答えなさい。

1. 情報が再構成されていないか、発信源や情報の根拠をとらえる習慣を身につける
2. 政府機関による情報提供のみが客観的な視点にもとづいた情報であると認識する
3. 情報の発信者の立場に立ち、発信された情報の意図などを考える
4. 似ている情報を比較するだけでなく、逆の主張や意見にも目を通す

問5 下線部アについて、日本国憲法が公布された日付は、現在国民の祝日となっているが、何という日か、答えなさい。

問6 下線部イについて、1923年の災害時には、以下のようなことが起こった。1923年に発生した災害の名称を、答えなさい。

被災した住民らの間に「朝鮮人が暴動を起こそうとしている」「朝鮮人が井戸に毒を投入した」などの誤った情報が広まったことで自警団の結成があいついだ。

問7 下線部ウについて、インターネットは情報通信技術の1つである。情報通信技術をアルファベット3文字で何というか、次の中から1つ選び、番号で答えなさい。

1. ODA 2. ICT 3. IOC 4. WHO

問8 下線部エについて、国民には政治の最終決定権があるが、これは日本国憲法の3つの原則のうちのどれにあてはまるものか、答えなさい。

問9 下線部オについて、国民の選挙によって選ばれないものを、次の中から1つ選び、番号で答えなさい。

1. 国会議員 2. 最高裁判所の裁判官
3. 都道府県知事 4. 市区町村議会の議員

問 10 下線部カについて、次のA～Cの文章を読んで、後の問いに答えなさい。

- A 国の政治は、キ国会・内閣・裁判所の三つの機関がそれぞれ独立し、^{たが}互いの仕事を監視することで、権力が一つのところに集中しないような仕組みになっています。このような政治の仕組みのことを といいます。
- B 国だけでなく地方自治体でも、住民などから税金を集め、その税金を使って多くの人が必要とする公共的な事業をおこなっています。また、税収の地域間格差を埋めるため2008年に創設された は、個人が任意の地方自治体を選んで金銭を寄附する制度です。このようにして集められた税金の使い道は、ク地方議会の話し合いによって決められます。
- C 2004年の裁判員法に基づいて、2009年から重大な 事件を扱う 裁判に導入された^キ裁判員制度は、国民が裁判への関心を持つとともに、国民の「健全な常識」を司法に吹き込む^ホ民主的コントロールのひとつであるといえます。

(1) 文中の ～ にあてはまる語句を答えなさい。

(2) 下線部キについて、国会の仕事の内容として誤っているものを、次の中から1つ選び、番号で答えなさい。

- | | |
|--------------|----------------------------|
| 1. 外国と条約を結ぶ | 2. 予算の議決 |
| 3. 内閣総理大臣の指名 | 4. ^{だんが} 弾劾裁判所の設置 |

(3) 下線部クについて、地方議会の議決を経て法律の^{はん}範囲内で制定された法を何というか、答えなさい。


(4) 下線部ケについて、この制度の説明として誤っているものを、次の中から1つ選び、番号で答えなさい。

1. 裁判員は、一般的に法律の知識が足りないことが多く、裁判官と比べて主観的な判断になりがちである。
2. 最初から最後まで裁判官の関与がない中、裁判員のみで裁判をおこなわなければならない。
3. 有罪か無罪かに加え、^{けい}刑の重さまでを判断する。
4. 裁判員は募集ではなく、^ほ選挙権を有する国民の中から「くじ」で選ばれる。

次の文章を読んで、後の問いに答えなさい。

昨年夏、東京オリンピック・パラリンピックが開催^{さい}されました。ここでは古代からあるイベントや娯楽^ごについて、みてみましょう。

<囲碁>中国で漢の時代に始まったといわれる囲碁は、遣唐使によって奈良時代前後に日本に伝わりました。右の絵は、の作品である『源氏物語』を絵巻物にしたもので、貴族が囲碁の勝負^{えが}をしている様子が描かれています。



国立国会図書館デジタルコレクション

<将棋>囲碁よりは後ですが、平安時代には将棋の原型ができていたそうです。取った相手の駒^{こま}を使えるというルールになったのは室町時代から江戸時代にかけてで、江戸幕府の第8代将軍であるは毎年11月17日に「御城将棋^{おしろ}」をおこなうことを定め、現在、日本将棋連盟はこの日を「将棋の日」と定めています。なお日本将棋連盟のもとになった団体は、大正13(1924)年にできました。

<相撲>『古事記』や『日本書紀』の神話にも登場しますが、織田信長は近江国に本拠地^{きよ}として築いた城の城下で相撲大会を開催したといわれています。江戸時代に本格的な興行が始まり、1789年に初めて横綱^{よこづな}の免許が谷風と小野川という力士^{あた}に与えられました。右の絵は、入場料を取る相撲の興行を描いた絵です。



国立国会図書館デジタルコレクション

<歌舞伎>右の絵は、江戸時代、東洲斎写楽が描いた歌舞伎役者の 絵です。版画で刷られ大量に販売されました。歌舞伎は江戸時代初期に京都で出雲阿国という女性が始めて、元禄文化の時代に盛んになり男性の役者のみが演じるものになりました。その後、老中水野忠邦による の改革で制限された時期もありましたが、ウ寺子屋など教育機関の増加と時を同じくして再び盛んになりました。明治時代になると、西洋の生活様式を取り入れる の風潮が流行し、歌舞伎もそのころの世相を描くものが演じられるなど現在のような人気につながります。



東京国立博物館蔵

問1 文中の ~ にあてはまる語句・人名を答えなさい。同じ番号には同じ語が入ります。 は漢字4文字で答えなさい。

問2 下線部アについて、次の略年表に関する説明として、誤っているものを下の中から1つ選び、番号で答えなさい。

630	最初の遣唐使として犬上御田歙が派遣された。
663	白村江の戦いで日本は唐・新羅の連合軍に敗れた。
665	5回目の遣唐使が朝鮮半島経由の北路で派遣された。
702	8回目の遣唐使が東シナ海を経由する南路で派遣された。
717	9回目の遣唐使が派遣され、吉備真備や阿倍仲麻呂が留学生として参加した。
838	19回目の遣唐使が南路によって派遣された。
894	20回目の遣唐使として菅原道真が任命されたが、派遣は中止された。

1. 白村江の戦いの直後であっても、朝鮮半島経由で遣唐使が派遣された。
2. 8世紀以降は新羅との関係悪化により、南路を使って遣唐使が派遣された。
3. 平安時代以降、唐に実際に派遣された遣唐使はいない。
4. 菅原道真は唐に行ってはいないが、任命された遣唐使としては最後になった。

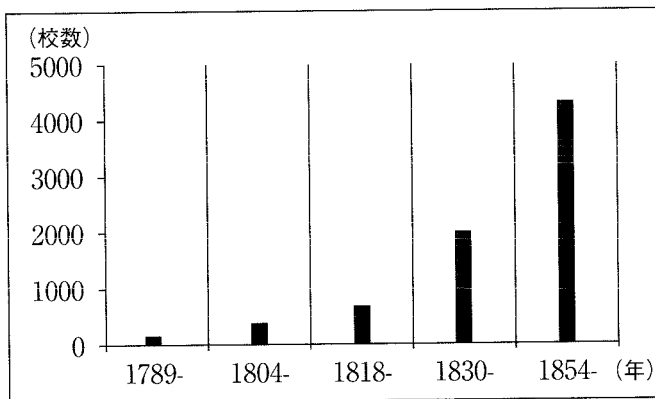
問3 下線部イについて、大正時代に関する説明として、誤っているものを下の中から1つ選び、番号で答えなさい。

1. 買占めなどによって米価が急上昇して、庶民の生活が苦しくなり、米騒動が起こった。
2. 女性がバスの車掌やタイピストになるなど、女性の社会進出が進んだ。
3. 本格的政党内閣の首相となった原敬は東京駅で暗殺された。
4. 第一次護憲運動により、1925年の普通選挙法で女性をふくむ普通選挙が実現した。

問4 下線部ウについて、(1)(2)の問いに答えなさい。

(1) 次の2つのグラフに関する下の文章中 にあてはまる短文を答えなさい。

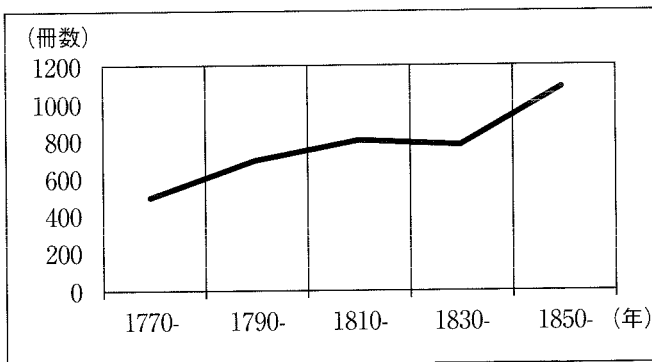
*年代別の寺子屋の開業数



石川松太郎

『藩校と寺子屋』より

*本の出版数

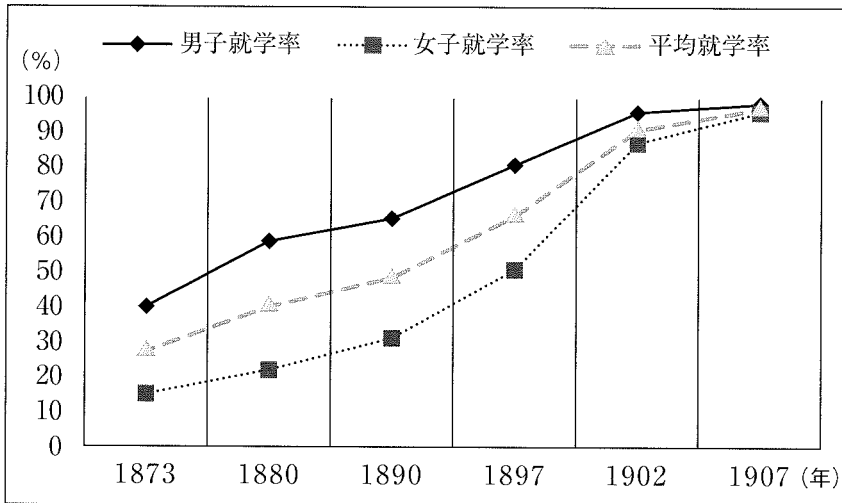


国文学研究資料館より

本の出版数が段々と増えているのは、寺子屋の数が増えて、 が可能になった人が増えてきたからだと考えられます。

(2) 次のグラフの説明として、正しいものを下の中から1つ選び、番号で答えなさい。

*児童の就学率



『学制百年史』統計より

1. 学制が出された当初から、男女平均の就学率は50%を超えていた。
2. 日露戦争前までは、女子の就学率は常に男子の就学率を下回っていた。
3. 日清戦争直後、男女平均の就学率は90%を超えた。
4. 大日本帝国憲法が制定された翌年の男子の就学率は50%を下回っていた。

【社会】

解答用紙(中学第1回)

1

問1	①	②	③	
	④	⑤		

問2		問3		問4		問5		問6	
----	--	----	--	----	--	----	--	----	--

問7	カ	キ	ク	ケ	コ
----	---	---	---	---	---

1

--

2

問1	①	権	②	③	院
----	---	---	---	---	---

問2		問3		問4		問5	
----	--	----	--	----	--	----	--

問6		問7		問8	
----	--	----	--	----	--

問9	
----	--

2

3

問10	(1)	(4)	(5)	(6)
	(2)	(3)	(4)	

問1	①	②	③	城
	④	⑤ 絵	⑥	

問2

<input type="text"/>	問3	<input type="text"/>
----------------------	----	----------------------

問4

(1)	(2)
-----	-----

得点	<input type="text"/>
----	----------------------

受験番号	<input type="text"/>	<input type="text"/>	<input type="text"/>	<input type="text"/>	氏名	<input type="text"/>
------	----------------------	----------------------	----------------------	----------------------	----	----------------------