

# 2025年度・学力考查問題

(中学第1回)

## 【社会】

### 注 意

1. 試験時間は 40 分です。
2. 答えはすべて解答用紙にはっきりと記入ください。
3. 解答用紙のみ試験終了後集めます。
4. 問題は 17 ページで 3 題あります。開始の合図で必ず確認し、  
そろっていない場合にはすぐに手をあげください。

## 1

次の、中学生2人と先生の会話文を読んで、後の問いに答えなさい。

桐 子：先生はふるさと納税をしていますか。

先 生：はい。いろいろな<sup>きよふ</sup>地方自治体に寄附していますよ。

まなぶ：私の両親がふるさと納税をしていると言っていたので耳にしたことはありますが、どういう制度なのですか。

先 生：「<sup>い</sup>納税」という言葉がついていますが、実際には地方自治体への寄附です。上限はありますが、自己負担額2,000円を除き、その寄附金額に応じて所得税や住民税が差し引かれます。

まなぶ：例えば、川崎市の人が10,000円をどこかの自治体に寄附すると、国や川崎市に支払う<sup>う</sup>所得税や住民税を8,000円減らしてもらえるということですか。

先 生：そうですね、元々の納税額によっても変わりますが、そういうことです。

桐 子：そうすると、<sup>え</sup>川崎市は本来得られる税金が得られなくなるということですよ。なぜそのような制度が作られたのですか。

先 生：考えてみましょう。ある人は地方の小規模な村で生まれ、その村の予算で、<sup>お</sup>社会保障・社会福祉などの住民サービスを受けて育ちました。その人はやがて村を出て都会で就職をし、都会で納税しました。このような人が多くなる場合、財政上どんな問題がおこるのでしょうか。

まなぶ：村は〈 A 〉、将来その住民から〈 B 〉ので、赤字になり、予算不足からサービスを減らさなければならなくなるのではないのでしょうか。

桐 子：そこで、都会で働いている人が、ふるさとにお金を寄附し、結果的に都市から地方へお金を移転する制度を作ったのですね。

先 生：そうですね。ふるさと納税には、都市部から地方へ税収が流れることで、都市部の税収が減少するという問題があると指摘されますが、ある意味それは本来の目的どおりなのかもしれません。

まなぶ：私の両親は2人とも<sup>か</sup>東京都出身ですが、東京都ではなく、別の地方自治体に寄附していましたよ。それは問題ないのですか。

先 生：今の制度上は問題ありません。ただ、地方自治体がより多くの寄附を集めるために<sup>き</sup>返礼品を提供していて、物品<sup>めあ</sup>目当ての寄附が増加する傾向があるという批判があります。

まなぶ：各地方自治体が自由に返礼品などで魅力<sup>みりく</sup>をアピールして、市場の中で競争をするのは良い事だと思いますが、批判もあるのですね。

桐 子：そういえば、批判を受けて<sup>そ</sup>総務省も、返礼品の基準を定めるなど様々な制度の修正をしていましたね。

問1 文中の〈 A 〉・〈 B 〉にあてはまる文の組み合わせとして正しいものを、次の中から1つ選び、番号で答えなさい。

- |                       |              |
|-----------------------|--------------|
| 1. A：費用をかけたことにより      | B：それ以上に納税される |
| 2. A：費用をかけたにもかかわらず    | B：納税されない     |
| 3. A：費用をかけていないにもかかわらず | B：納税される      |
| 4. A：費用をかけていないことにより   | B：費用を請求される   |

問2 下線部アについて、地方自治体に関する以下の問いに答えなさい。

(1) 地方自治体は、「団体自治」及び「住民自治」の2つの意味における地方自治をおこなうことができます。「団体自治」とは、国から独立した団体が、自らの意思と責任の下で政治をおこなうという意味であり、「住民自治」とは、その地域の住民の意思に基づいて政治がおこなわれるという意味であるとされています。以上のことを参考に、次のA～Dの例を「団体自治」と「住民自治」のいずれかに分類した時に「団体自治」にあてはまるものとして、正しいものの組み合わせを、下の中から1つ選び、番号で答えなさい。

- A：県の予算について、県知事が方針を決定した。  
B：市の教育委員会が、市立中学校で使用する教科書を選んだ。  
C：市長が、パブリックコメントにより、市民の意見を広く求めた。  
D：住民投票条例に基づき、県の政策についての住民投票が実施された。

- |        |        |        |
|--------|--------|--------|
| 1. AとB | 2. BとC | 3. CとD |
| 4. AとC | 5. AとD | 6. BとD |

(2) 2000年の地方分権一括法の施行に伴い、国の地方自治体に対する関与が見直されました。その結果、地方自治体がおこなう仕事について、「国などが本来果たすべき事務であるが法律や政令によって地方自治体が処理するもの」とされている「法定受託事務」と、それ以外の「自治事務」に整理されました。次のA～Dの例を「法定受託事務」と「自治事務」に分類した時に、「法定受託事務」にあてはまるものとして正しいものの組み合わせを、下の中から1つ選び、番号で答えなさい。

- A：市が、市内の病院での医療費の一部を支給する乳幼児医療証を発行する。  
B：県のパスポートセンターで、日本国の旅券（パスポート）を交付する。  
C：県の選挙管理委員会が、国政選挙の管理をおこなう。  
D：オリンピックの競技の会場となったことがある公園を市が管理する。

- |          |          |          |
|----------|----------|----------|
| 1. AとB   | 2. BとC   | 3. AとC   |
| 4. AとBとC | 5. AとBとD | 6. BとCとD |

問3 下線部イについて、納税は日本国憲法が定める義務の一つです。日本国憲法で定められている義務や責任の説明として誤っているものを、次の中から1つ選び、番号で答えなさい。(条文の引用部分の表記は原文のままです。)

1. 憲法第12条では、国民の権利について「濫用してはならないのであつて、常に公共の福祉のためにこれを利用する責任を負ふ」と定めている。
2. 憲法第26条では、すべての国民に「保護する子女に普通教育を受けさせる義務」があることを定めている。
3. 憲法第27条では、18歳以上の国民について「兵役及び勤労の義務を負ふ」と定めている。
4. 憲法第99条では、天皇や国務大臣、国会議員、裁判官など、公務員に対して「憲法を尊重し擁護する義務」を定めている。

問4 下線部ウについて、所得税や住民税に関する以下の問いに答えなさい。

(1) 所得税や住民税の特徴を説明した文として正しいものを、次の中から1つ選び、番号で答えなさい。

1. 所得税と住民税はともに国税に分類される。
2. 所得税と住民税はともに地方税に分類される。
3. 所得税と住民税はともに直接税に分類される。
4. 所得税と住民税はともに間接税に分類される。

(2) 累進課税制度という、高所得者ほど高い税率を課している制度があります。ある国では、次の資料のような税率を課し、この税率に基づいて、納める所得税の額を計算しているとします。次の資料と計算例を参考に、この国で、課税所得が1000万円の人が納める所得税の額を答えなさい。

【資料】

	課税所得	税率
①	200万円以下	5%
②	200万円超 350万円以下	10%
③	350万円超 600万円以下	20%
④	600万円超 900万円以下	25%
⑤	900万円超 1200万円以下	30%
⑥	1200万円超 1800万円以下	40%
⑦	1800万円超	45%

<計算例>〔課税所得 620万円の場合〕

① 200万円の5% = 10万円

② 150万円 (350万円 - 200万円)  
の10% = 15万円

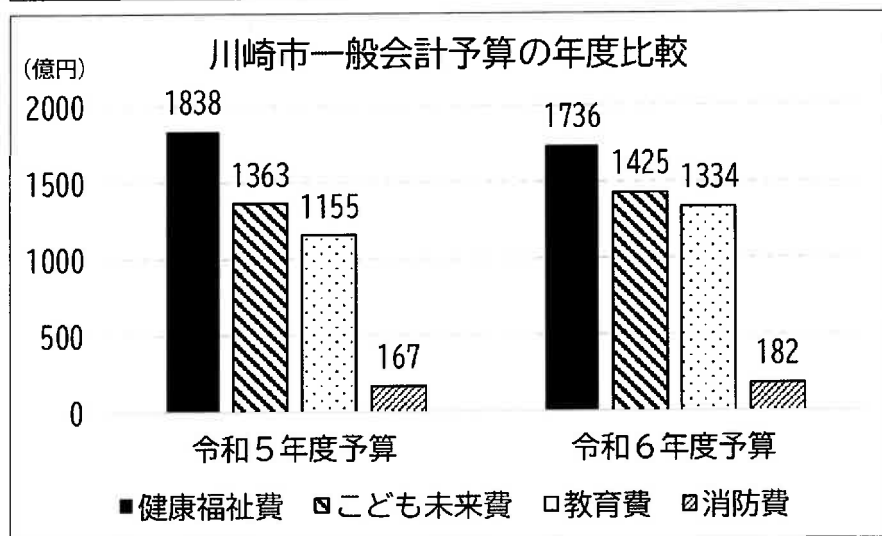
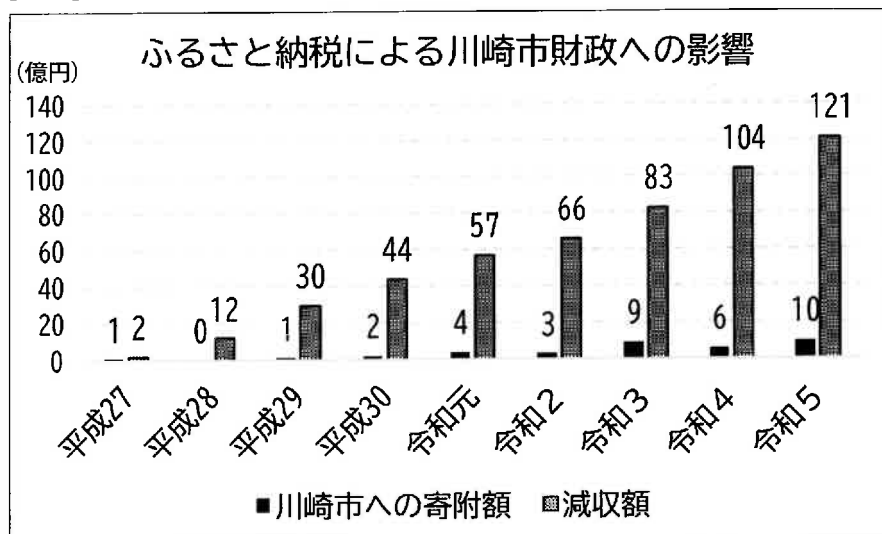
③ 250万円 (600万円 - 350万円)  
の20% = 50万円

④ 20万円 (620万円 - 600万円)  
の25% = 5万円

所得税額⇒①+②+③+④= 80万円

問5 下線部エについて、ふるさと納税の川崎市への影響について、次の資料から読み取れることとして正しいものを、下の中から1つ選び、番号で答えなさい。

【資料】



(いずれも川崎市 WEB サイト資料より作成)

1. 令和5年度の川崎市への寄附額は、平成27年度から令和3年度の寄附額の合計を上回った。
2. 令和5年度までの川崎市への寄附額を見ると、平成27年度から右肩上がりに増加し続けていることを示している。
3. 令和5年度のふるさと納税による減収額は、令和5年度予算および令和6年度予算の消防費を上回った。
4. 令和5年度のふるさと納税による減収額は、令和5年度予算から令和6年度予算の健康福祉費の減額分を上回った。

問6 下線部オについて、社会保障や社会福祉に関する説明文として正しいものを、次の中から1つ選び、番号で答えなさい。

1. 児童や老人など、社会的に弱い立場とされる人が自立して社会生活ができるように生活を支える仕組みのことを介護保険という。
2. 保険料を納めている人が失業をしたときに、職を探しながらしばらく生活ができるようにお金が支給される仕組みを、社会福祉という。
3. 保険料を納めている人が病気やけがによって病院を利用した時に医療費の一部が支給される仕組みを、年金保険という。
4. 保健所の設置などにより、病気の予防や健康の増進、保健に関する施策をおこなうことを、公衆衛生という。

問7 下線部カについて、昨年7月には東京都知事選挙や東京都議会議員補欠選挙がおこなわれました。東京都知事や東京都議会に関する説明として正しいものを、次の中から1つ選び、番号で答えなさい。

1. 東京都知事は、住民の直接選挙で選ばれ、都議会が任命するわけではないが、都議会は都知事の不信任決議権を持つ。
2. 東京都議会は二院制をとっており、任期4年の議員と、任期6年の議員がいる。任期6年の議員は3年ごとに半数が改選される。
3. 東京都知事は任期4年で、被選挙権は18歳以上の者に認められる。
4. 東京都議会議員の選挙は小選挙区比例代表並立制によりおこなわれる。

問8 下線部キについて、まなぶさんは、先生や桐子さんとの会話の後、ふるさと納税に興味を持ち、両親と一緒に返礼品を見ながら寄附をする自治体を選ぶことにしました。次の、まなぶさんと両親の会話を読んで、まなぶさんと両親が寄附することにした自治体はどれか、次の会話中の下線部X～Zの自治体に当てはまるものを、下の中からそれぞれ1つずつ選び、番号で答えなさい。

まなぶ：今日、友達と先生と一緒にふるさと納税のことを話していたよ。地方の特産品など魅力的な返礼品もあるらしいね。

父：そうだね、ちょうどふるさと納税をしようと思っていたところだから、みんなと一緒に選ぼうか。

母：私は、この「うなぎ蒲焼2尾」がいいな。「日本最後の清流で取れた稚魚をじっくり成長させたうなぎ」ですって。おいしそう。Xこの自治体にしよう。

父：この自治体は、中村市と西土佐村が合併して出来たんだって。この清流など自然環境を守るのに役立ててもらえるといいね。

まなぶ：お父さんはどれにするの。

父：私は、おいしいお米が食べたいから、「ゆめぴりか5kg」にしようかな。ピリカとはアイヌ語で「良い」とか「美しい」・「豊かだ」という意味なんだった。そういえば、まなぶが生まれる少し前にYこの自治体でG8サミットが開かれていたね。有珠山なども含めて一帯は、日本で最初の世界ジオパークになったところだし、環境や景観保全に役立ててほしいな。

母：まなぶはどこに寄附したいかな。

まなぶ：この「曲げわっぱ弁当箱」で昼ご飯を食べてみたい。Zこの自治体にする。

母：天然の三大美林の一つともされる杉が有名な、この地域の代表的な特産品だね。

まなぶ：その森林を守ってもらうのに寄附金を使ってもらえたらいいね。

- |             |              |             |
|-------------|--------------|-------------|
| 1. 北海道 富良野市 | 2. 北海道 洞爺湖町  | 3. 青森県 つがる市 |
| 4. 秋田県 大館市  | 5. 新潟県 魚沼市   | 6. 長野県 南木曾町 |
| 7. 岐阜県 中津川市 | 8. 静岡県 浜松市   | 9. 奈良県 川上村  |
| 10. 広島県 広島市 | 11. 高知県 四万十市 | 12. 熊本県 阿蘇市 |

問9 下線部クについて、総務省は2001年の中央省庁等改革によって設置された行政組織です。中央省庁等の改革と、設置された行政組織の説明として誤っているものを、次の中から1つ選び、番号で答えなさい。

1. 郵政省や自治省などが統合されてできた総務省は、地方自治、地方公務員制度、選挙、統計など様々な制度を扱う。
2. 大蔵省から名称を変えて発足した経済産業省は、国の予算・決算、租税、外国為替に関することなどを扱う。
3. 厚生省と労働省を統合してできた厚生労働省は、医療や福祉、労働や年金に関することなどを扱う。
4. 総理府などが統合してできた内閣府は、内閣総理大臣直属の機関であり、内閣総理大臣及び内閣官房を補佐する。



このページには問題がありません。

## 2

ヒカルさんは自分が住む家から比較的近い場所に、人物の銅像を見つけたことをきっかけに、周辺各地にある銅像の人物とその由来などを調べてみました。次の6つのカードはそれらの銅像についてまとめたものです。これらのカードを読んで、後の問いに答えなさい。

### カードA

- ・人物：新田義貞
- ・銅像がある場所：新田神社（川崎市川崎区）
- ・銅像に関連して調べたこと

ア後醍醐天皇に従っていた新田義貞の銅像は、義貞が足利氏らとの戦いで戦死したのち、義貞の家来が自分の領地内に建てた神社内にある。新田義貞の銅像は他に東京都府中市の分倍河原駅前にもある。

### カードB

- ・人物：夏目漱石
- ・銅像がある場所：漱石公園（東京都新宿区）
- ・銅像に関連して調べたこと

現在漱石公園がある場所は、小説家であり英文学者の夏目漱石がイ明治40年から大正5年の9年間を過ごした場所で、ウ『三四郎』、『それから』などの著名な作品をこの地で書いた。漱石が生まれた場所もここから500mほどのところにあり、その坂道は「夏目坂」とよばれる。

### カードC

- ・人物：井伊直弼
- ・銅像がある場所：掃部山公園（横浜市西区）
- ・銅像に関連して調べたこと

井伊直弼の銅像は、明治時代にその家来だった人たちによって、エ井伊直弼の実施した政策と関係の深い横浜の港を見下ろす山に建てられた。ただし、その後、オ昭和18年に金属回収のため撤去され、昭和29年にもう一度設置された。

### カードD

- ・人物：源義家
- ・銅像がある場所：カ大國魂神社前（東京都府中市）  
おおくにたまじんじや
- ・銅像に関連して調べたこと

源義家は11世紀後半、朝廷から東北の豪族の討伐を命じられて、父親とともにキ東北で長期間にわたって戦い勝利した。その際、勝利を祈って、大國魂神社にお参りをしたといわれる。その後、子孫は関東に勢力を広げた。

### カードE

- ・人物：吉田茂
- ・銅像がある場所：大磯城山公園（神奈川県大磯町）
- ・銅像に関連して調べたこと

ッ内閣総理大臣であった吉田茂は、大磯町にゆかりがあり、後に大磯町初の名誉市民となった。保存されていた「旧吉田邸」に作られたその銅像の視線は太平洋を越えて、ヶ吉田が条約に調印した地であるアメリカ西海岸の都市の方角を向いている。

### カードF

- ・人物：玉川兄弟
- ・銅像がある場所：羽村取水堰（東京都羽村市）  
しやすいせき
- ・銅像に関連して調べたこと

ッ江戸時代初期、江戸の町の水不足を補うため、幕府が農家もしくは町人出身とされる兄の庄右衛門、弟の清右衛門に水路をつくることを命じた。兄弟は羽村をスタートとし、40km以上におよぶ玉川上水を完成させ、幕府からほうびとして「玉川」という名字を名乗ることを許された。1958年に玉川上水のスタート地点であるこの地に兄弟の銅像が建てられた。

問1 カードA～Fの銅像の人物を、活躍した年代の古い順に並べた時、1番目と4番目にあたるカードの組み合わせとして正しいものを、次の中から1つ選び、番号で答えなさい。

- |          |       |          |       |
|----------|-------|----------|-------|
| 1. 1番目：A | 4番目：B | 2. 1番目：A | 4番目：C |
| 3. 1番目：A | 4番目：F | 4. 1番目：D | 4番目：B |
| 5. 1番目：D | 4番目：C | 6. 1番目：D | 4番目：F |

問2 下線部アについて、後醍醐天皇について述べた文として正しいものを、次の中から1つ選び、番号で答えなさい。

1. 幕府に反発して、承久の乱を起こし、武士に協力を求めた。
2. 幕府を滅ぼした後に、京都で院政を実施した。
3. 紀貫之に命じて、古今和歌集を編さんさせた。
4. 摂関政治や幕府政治を否定し、建武の新政を実施した。

問3 下線部イについて、明治40年から大正5年の出来事として正しいものを、次の中から1つ選び、番号で答えなさい。

- |              |               |
|--------------|---------------|
| 1. 日本国憲法の公布  | 2. 西南戦争の開始    |
| 3. 五・一五事件の発生 | 4. 第1次世界大戦の開始 |

問4 下線部ウについて、夏目漱石の作品として正しいものを、次の中から1つ選び、番号で答えなさい。

- |          |          |            |           |
|----------|----------|------------|-----------|
| 1. 『羅生門』 | 2. 『こころ』 | 3. 『伊豆の踊子』 | 4. 『奥の細道』 |
|----------|----------|------------|-----------|

問5 下線部エについて、井伊直弼の実施した外交政策と、その政策が横浜に与えた影響を説明しなさい。

問6 下線部オについて、この頃には銅像などの金属類が回収されることが多くありましたが、それはなぜですか。昭和18年の状況から考えて説明しなさい。

問7 下線部カに関連して、この大國魂神社がある府中市は、大化の改新以降、武蔵国（現在の埼玉県、東京都、神奈川県の一部）の中心地となった場所ですが、大化の改新以降奈良時代にかけて、日本はどこの国を参考にして、どのような国をつくることを目指したのか説明しなさい。

問8 下線部キに関連して、東北地方での戦いについて述べた文として正しいものを、次の中から1つ選び、番号で答えなさい。

1. 平安時代、蝦夷のアテルイらが、聖武天皇によって派遣された坂上田村麻呂らと戦った。
2. 東北地方で繁栄した奥州藤原氏は、幕府創設を目指す源頼朝に派遣された武士団と戦った。
3. 戦国時代、東北ではいくつかの戦国大名が戦を繰り返<sup>いば</sup>し、その中で北条早雲が勢力を広げていった。
4. 戊辰戦争の際、東北の多くの藩は尊王攘夷論を唱えて団結して戦い、15代将軍徳川慶喜に大政奉還をさせた。

問9 下線部クについて、内閣総理大臣とその政策について挙げた次のⅠ～Ⅲを古い順に並べた時、正しいものを、下の中から1つ選び、番号で答えなさい。

- Ⅰ 福田赳夫内閣が中華人民共和国と日中平和友好条約を結ぶ。
- Ⅱ 近衛文麿内閣のもとで国家総動員法が制定される。
- Ⅲ 第2次若槻礼次郎内閣が満州事変の拡大を認めない声明を出す。

1. Ⅰ→Ⅱ→Ⅲ
2. Ⅰ→Ⅲ→Ⅱ
3. Ⅱ→Ⅰ→Ⅲ
4. Ⅱ→Ⅲ→Ⅰ
5. Ⅲ→Ⅰ→Ⅱ
6. Ⅲ→Ⅱ→Ⅰ

問10 下線部ケについて、吉田茂が調印したこの条約の名前を答え、その条約調印によって日本はどう変化したのか答えなさい。

問11 下線部コについて、江戸時代前半の出来事として挙げた次のⅠ～Ⅲを古い順に並べた時、正しいものを、下の中から1つ選び、番号で答えなさい。

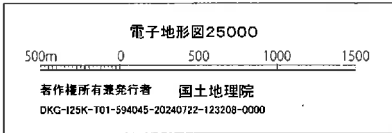
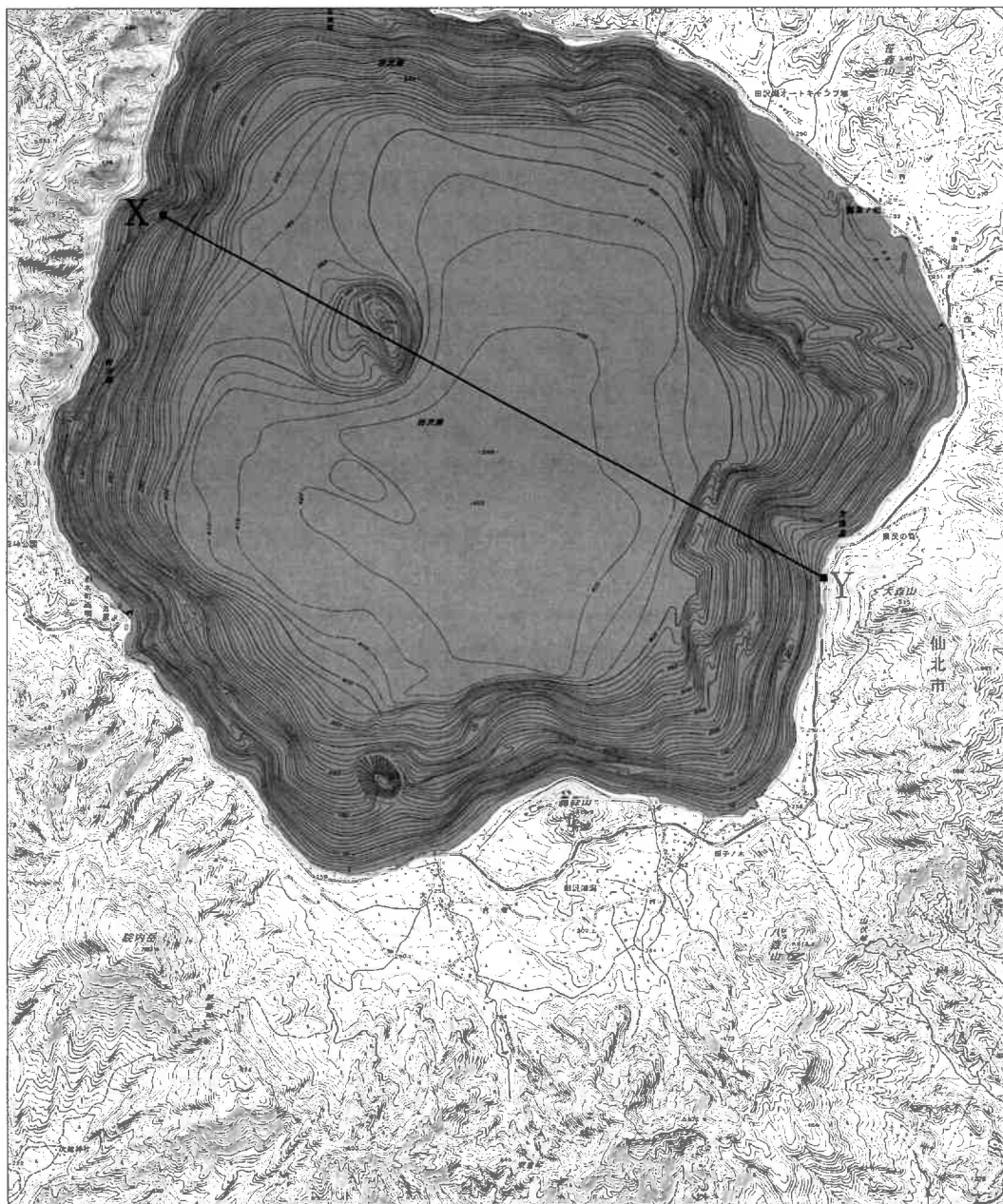
- Ⅰ 3代将軍が武家諸法度に参勤交代の制度を加える。
- Ⅱ 大阪城にいた豊臣秀頼らが討伐される。
- Ⅲ 生類憐みの令が初めて出される。

1. Ⅰ→Ⅱ→Ⅲ
2. Ⅰ→Ⅲ→Ⅱ
3. Ⅱ→Ⅰ→Ⅲ
4. Ⅱ→Ⅲ→Ⅰ
5. Ⅲ→Ⅰ→Ⅱ
6. Ⅲ→Ⅱ→Ⅰ

問12 下線部サについて、名字を名乗ることを許されることがなぜ「ほうび」とされるのか説明しなさい。

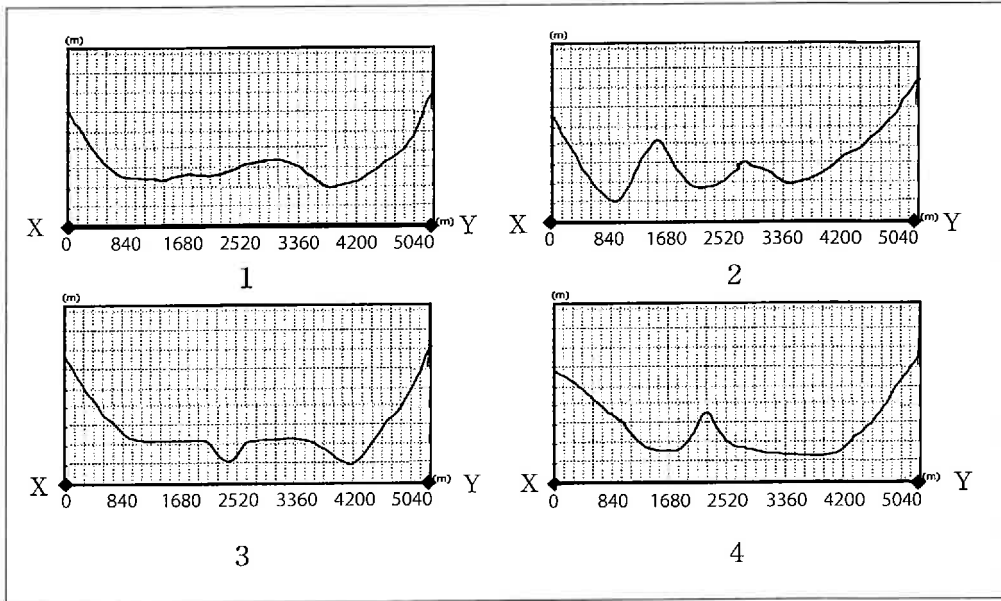
3

桐美さんと光一さんは、2万5千分の1地形図「田沢湖」をみながら、秋田県仙北市にある田沢湖周辺の地域調査をおこなうことにしました。後の問いに答えなさい。  
※この地形図は、問題の都合上、縮尺など一部編集しています。  
また、地形図の上を北としています。



問1 地形図を見て、以下の問いに答えなさい。

(1) 田沢湖 X—Y の断面図として最も適当なものを、次の中から1つ選び、番号で答えなさい。ただし、高さは強調して表現してあります。



(2) 田沢湖は日本で19番目に広い湖沼です。田沢湖の面積として最も近いものはどれか、次の中から1つ選び、番号で答えなさい。

1.  $9\text{km}^2$       2.  $25\text{km}^2$       3.  $44\text{km}^2$       4.  $78\text{km}^2$

問2 桐美さんと光一さんの会話文をみて、以下の問いに答えなさい。

桐 美：田沢湖は日本一深い湖といわれているそうだね。  
光 一：そうなんだ。最大深度が423.4mもあって、東京タワーがすっぽり収まっちゃうんだ。日本で深さが2位の支笏湖も、3位の十和田湖も、全て  湖といわれているよ。  
桐 美：たしか  湖って、火山の噴火によってできたくぼ地に水が溜まってできた湖だったよね。  
光 一：そうだね。でも日本一広い湖の  湖は断層運動によってできた湖といわれているよ。  
一方日本で広さが2位の霞ヶ浦、3位のサロマ湖はせき止めによってできた湖なんだ。

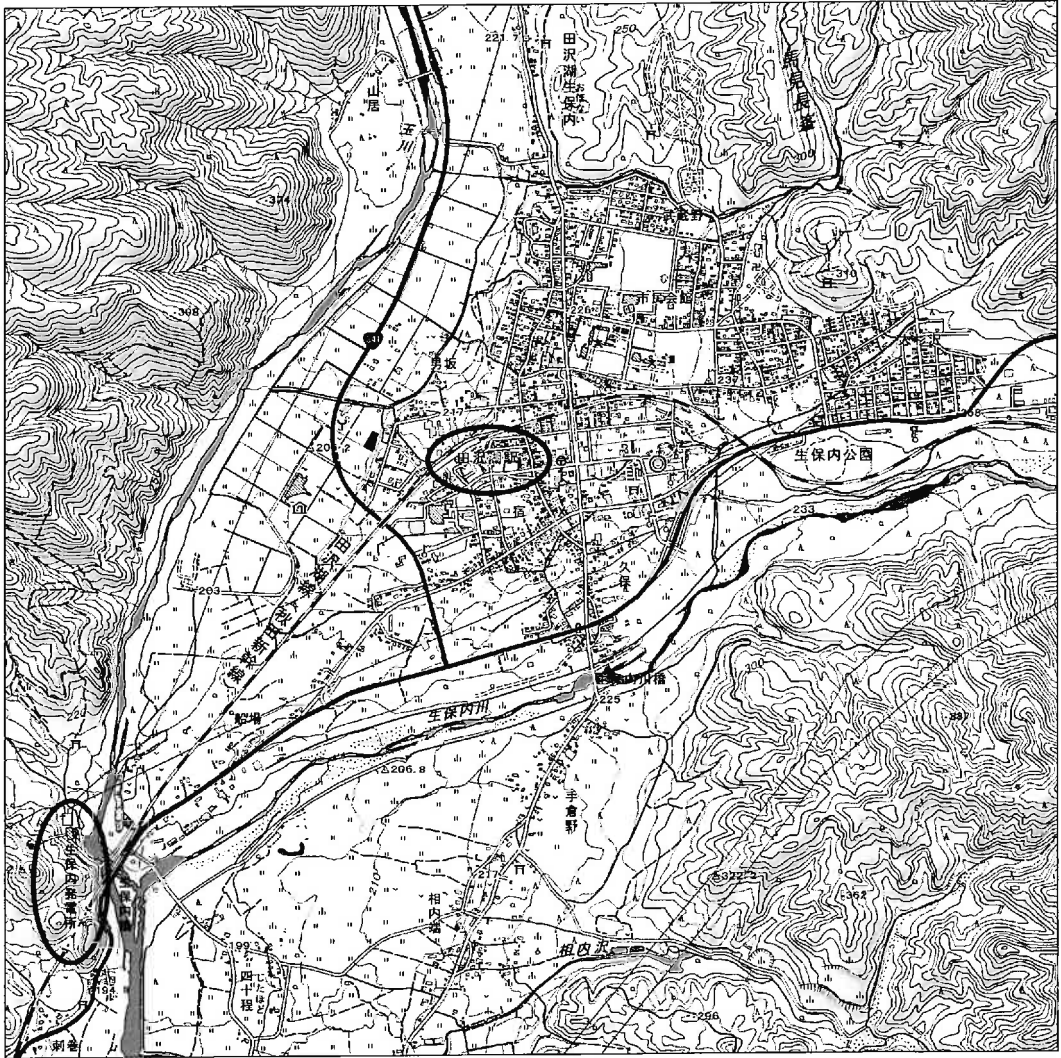
(1) 会話文中の  ・  にあてはまる語句を答えなさい。

(2) 下線部の霞ヶ浦、サロマ湖がある都道府県として正しい組み合わせを、次の中から1つ選び、番号で答えなさい。

	1	2	3	4	5	6
霞ヶ浦	茨城県	東京都	東京都	千葉県	茨城県	千葉県
サロマ湖	北海道	北海道	沖縄県	沖縄県	沖縄県	北海道






問3 次の2万5千分の1地形図は田沢湖の南東に広がる市街地一帯のものです。この地形図に関する以下の問いに答えなさい。



(1) この地形図に関する説明として正しいものを、次の中から1つ選び、番号で答えなさい。

1. 田沢湖駅の北北西の方向に市街地が広がっている。
2. 田沢湖駅の北東にある中学校は高等学校と隣り合っている。
3. 田沢湖駅から東に進むと、村役場がある。
4. 田沢湖駅から秋田駅方面への新幹線の進行方向右側に老人ホームがある。

(2) 次の a～c の地図記号が示すものとして正しい組み合わせを、下の中から1つ選び、番号で答えなさい。

a		b		c	
---	---	---	---	---	---

1	2	3	4	5	6
a 風車	a 風車	a 発電所	a 発電所	a 電波塔	a 電波塔
b 混合林	b 広葉樹林	b 広葉樹林	b 針葉樹林	b 針葉樹林	b 混合林
c 交番	c 警察署	c 交番	c 警察署	c 交番	c 警察署

(3) 二人が見ている地図上では、田沢湖駅から生保内発電所までの直線距離が8cmあります。実際の距離は約何 km か、答えなさい。

問4 次の図A・Bは田沢湖周辺の「洪水・内水」「土砂災害」それぞれいずれかのハザードマップで、色の濃度で危険度数を示しています。「洪水・内水」の危険度数がより高い（洪水・内水しやすい）地域を示しているのは地点a～dのどれか、記号で答えなさい。

図A

図B



(重ねるハザードマップより作成)

問5 国土交通省が定める、土砂災害ハザードマップ作成ガイドラインにおいて、土砂災害ハザードマップに必ず記載すべきとされているものを、次の中から1つ選び、番号で答えなさい。

- |             |                        |
|-------------|------------------------|
| 1. 避難施設と避難路 | 2. 液状化現象に注意すべき地域       |
| 3. 高潮浸水想定区域 | 4. 地域内全ての医療機関の所在地と電話番号 |

# 【社会】 解答用紙(中学第1回)

1 問1

問2 (1)  (2)  問3

問4 (1)  (2)  万円

問5  問6  問7

問8 X  Y  Z  問9

2 問1  問2  問3  問4

問5

問6

問7

問8  問9

問10

問11

問12

3 問1 (1)  (2)

問2 (1) ①  湖 ②  湖 (2)

問3 (1)  (2)  (3)  km

問4  問5

1

2

3

受験番号       氏名

得点

