

2025年度・学力考查問題

(中学第2回)

【社会】

注 意

1. 試験時間は40分です。
2. 答えはすべて解答用紙にはっきりと記入下さい。
3. 解答用紙のみ試験終了後集めます。
4. 問題は14ページで3題あります。開始の合図で必ず確認し、そろっていない場合にはすぐに手をあげ下さい。

1

次の会話文を読み、問題に答えなさい。

- 先生：今日は、京都の観光の問題について話しましょう。ア京都は歴史的な名所がたくさんありますよね。
- 生徒：はい、清水寺などがあります。最近はどんな問題が起きているんですか。
- 先生：京都では「」という問題が起こっています。この問題の例を挙げると、2023年には約535万人のイ外国人観光客が京都市内を訪れ、観光地の周りの道路が混雑して、地元の人たちがバスに乗れなくなったり、観光客が歩くスペースが狭くなったりしています。また、観光客が増えることでゴミが増え、街が汚れてしまうこともあります。これらの問題が地元の人たちにも影響を与えているんです。
- 生徒：それに対して、京都市ではどんな対策をしているんですか。
- 先生：例えば、などの工夫をしています。しかし、問題が完全に解決しているとは言えないですね。
- 生徒：なるほど。世界でも似たような問題を抱えている場所はありますか。
- 先生：はい、イタリアのウローマやヴェネツィアも同じように困っています。ヴェネツィアはエ「水の都」として知られていて、たくさんのオ運河があります。年間約2000万人の観光客が訪れることによって、運河が汚れたり、古い建物が壊れたりしています。
- 生徒：ヴェネツィアではどんな対策をしているんですか。
- 先生：ヴェネツィアでは「入島税」という税金を導入しました。観光客がヴェネツィアに入るときに支払うことで、そのお金を運河の掃除や建物の修理に使っています。カこの方法で、環境を保つことを目指しているんです。
- 生徒：京都とヴェネツィア、それぞれの対策が違うけれども、どちらも工夫しているんですね。

問1 下線部アについて、京都の名所に関する以下の問いに答えなさい。

(1) 次の写真の建物と、この建物を建てた将軍についての説明として、正しいものの組み合わせを、下の中から1つ選び、番号で答えなさい。



- ア. この建物は3階に分かれており、全ての階が書院造の様式をしている。
- イ. 京都の北山に築かれ、後にこの建物を含めて鹿苑寺となった。
- ウ. この建物を建てた将軍の時代に応仁の乱が起こった。
- エ. この建物を建てた将軍は南北朝を統一し、内乱を終わらせた。

1. アとウ 2. アとエ 3. イとウ 4. イとエ

(2) 京都にある二条城で江戸幕府15代将軍徳川慶喜は朝廷に政権を返すことを表明しました。このときの、政権を返す出来事を何というか、漢字で答えなさい。

(3) 次の写真の建物は宇治に建てられた寺院です。この寺院が建てられた時期のできごとについての説明として、正しいものを下の中から1つ選び、番号で答えなさい。

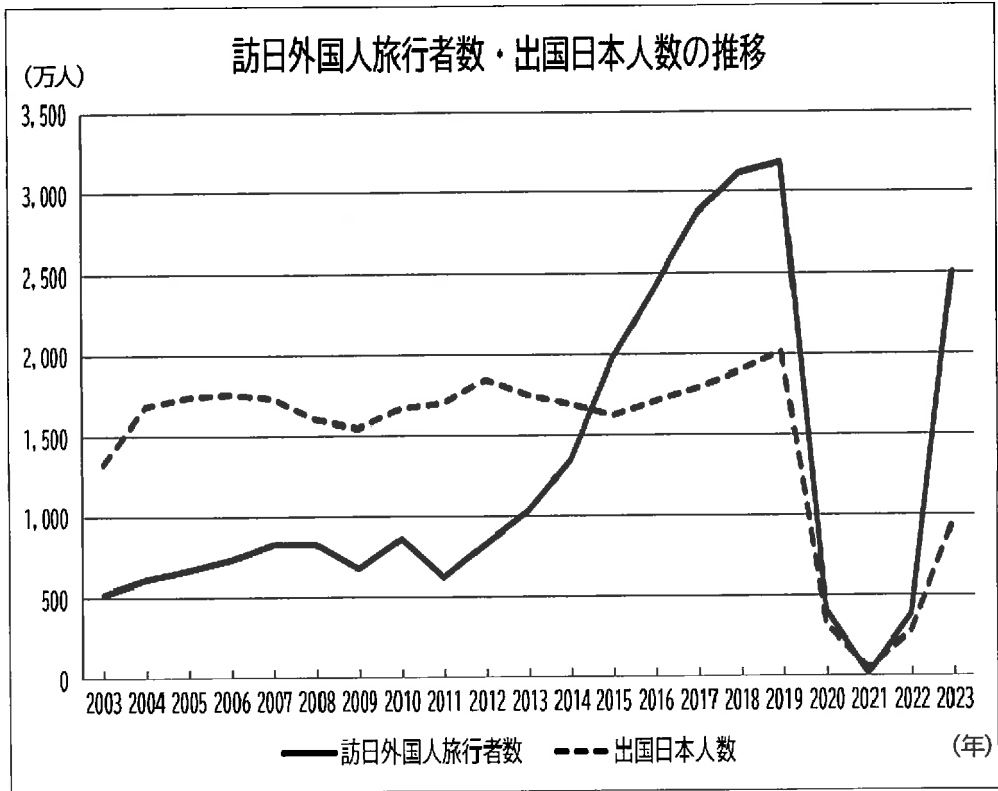


- 1. 千利休により茶の湯が大成された。
- 2. 『古事記』や『日本書紀』が編さんされた。
- 3. 唐の長安を参考に、平城京が建設された。
- 4. 藤原頼通が関白として権力を握った。

問2 文中の A にあてはまる語句を、次の中から1つ選び、番号で答えなさい。

- | | |
|--------------|---------------|
| 1. ドーナツ化現象 | 2. ヒートアイランド現象 |
| 3. オーバーツーリズム | 4. モータリゼーション |

問3 下線部イについて、次のグラフは訪日外国人旅行者数と出国日本人数の推移を表しています。グラフから読み取れることとして誤っているものを、下の中から1つ選び、番号で答えなさい。



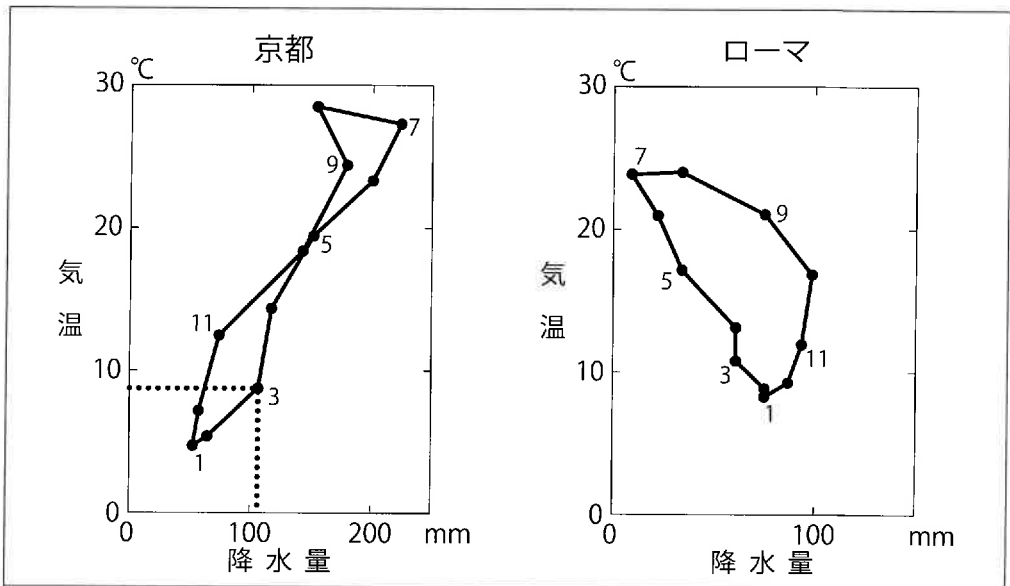
(日本政府観光局より作成)

1. 2003年から2004年にかけて、日本を紹介するキャンペーンが始まり、訪日外国人旅行者数が増加した。一方で、日本経済の回復は遅れており、出国日本人数は減少した。
2. 2008年から2009年にかけて、リーマンショックにより訪日外国人旅行者数が減少した。さらに、円高に伴う経済の悪化の影響で出国日本人数も減少した。
3. 2016年から2019年にかけて、政府の観光政策や観光インフラの整備によって訪日外国人旅行者数が増加した。また出国日本人数も微増している。
4. 2019年から2021年にかけて、新型コロナウイルスの影響で訪日外国人旅行者数と出国日本人数が大幅に減少した。しかし、2022年から回復し始めている。

問4 文中の B にあてはまる文として正しいものを、次の中から1つ選び、番号で答えなさい。

1. 観光地を24時間営業にして、観光客が同じ時間に集中しないようにする
2. 観光地を直通で結ぶバスを新しく運行して、バスの乗客を分散させる
3. 観光客が地元の生活に密接に関わるよう、生活エリアを観光地に組み込む
4. 地元の人を使うバスなどの公共交通機関を観光客が利用するように促す

問5 下線部ウについて、次の2つのグラフはローマと京都のハイサーグラフです。ハイサーグラフとは、各月の平均気温と降水量の値を点で示し、順に線でつないだものです。例えば、京都の3月の平均気温が8.4℃、降水量が113.3mmだとすると、図中の点線が示す位置に3月の点が打たれます。これを参考にこのハイサーグラフから読み取れることとして誤っているものを、下の中から1つ選び、番号で答えなさい。



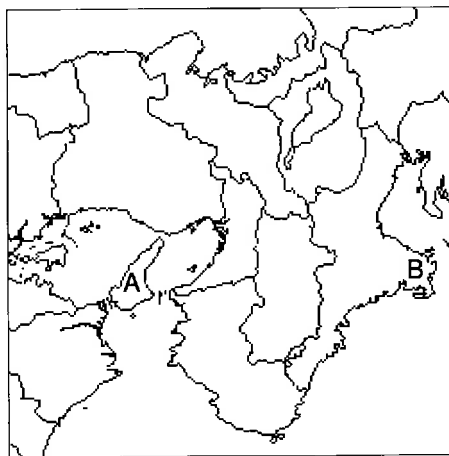
1. ローマは1月の平均気温が約8℃である。7月の平均気温は約25℃であり、1年間の気温差が京都より小さい。
2. 京都は1月の平均気温が約5℃であり、冬はローマに比べると寒い。7月の平均気温は約27℃である。
3. ローマの降水量は季節によって差があり、夏に降水量が多く、冬は降水量が比較的少ない傾向がある。
4. 京都の降水量は季節によって差があり、特に7月の梅雨の時期には降水量が多くなる。

問6 下線部エについて、大阪は「水の都」と呼ばれることがあります。大阪に関する以下の問いに答えなさい。

(1) 大阪で起きたできごととして正しいものを、次の中から1つ選び、番号で答えなさい。

1. 鎌倉時代に六波羅探題が大阪に置かれた。
2. 江戸時代に太閤平八郎らが大阪で反乱を起こした。
3. 幕末に結ばれた日米和親条約により、大阪が開港された。
4. 明治時代に大阪でアメリカ人のモースが大森貝塚を発見した。

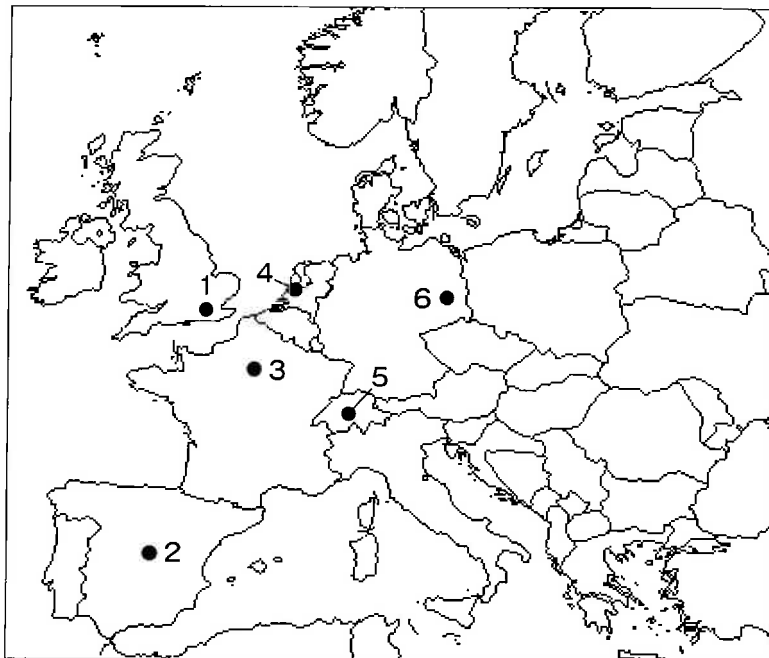
(2) 大阪を中心とする次の地図中のAは島を、Bは半島を示しています。地名をそれぞれ漢字で答えなさい。



(3) 以下の工業地帯・工業地域について説明した文章のうち、阪神工業地帯についての説明として正しいものを、次の中から1つ選び、番号で答えなさい。

1. 豊田の自動車工業や四日市の石油化学工業などが有名であり、特に自動車メーカーに関連する工場が多く集まっている。
2. 臨海部の埋め立て地に多くの工場が立地しており、水島の石油化学コンビナートなどが有名である。
3. かつては筑豊炭田の石炭を利用した製鉄業が盛んで、官営の製鉄所があった。しかし、近年は鉄鋼業の生産額が低迷している。
4. 金属、機械工業などが主要な産業であり、多くの中小企業が大企業と連携している。門真の電気機器や尼崎の金属工業などが有名である。

問7 下線部オについて、ヴェネツィアと同様に水運の町として知られる都市としてオランダのアムステルダムがあります。下の地図の1～6のうち、アムステルダムの位置として正しいものを1つ選び、番号で答えなさい。



問8 下線部カについて、ヴェネツィアは観光客からお金を取ることで、環境保全への取り組みへとつなげています。持続可能な観光を実現するために、どのような対策が考えられますか。具体的な対策とそこから期待できる効果について説明しなさい。なお、会話文中に登場した「入島税」は使用しないこと。

2

カオルさんは広島県の宮島に旅行したことをきっかけに、宮島の歴史に興味を覚え、その歴史を年表にまとめてみました。この年表をみて、後の問いに答えなさい。

時代	宮島に関する出来事
古墳時代 以前	・宮島の山々が ^{すうはい} ア崇拝の対象とされる
飛鳥時代	・593年 厳島神社が創建されたとされる
奈良・平安 時代	・806年 イ空海がおとずれ、お堂を建てて修行する ・1146年 ッ平清盛が厳島神社を保護し、大きく発展させる
鎌倉・室町 時代	・エ鎌倉幕府が厳島神社を保護する ・1241年 現在の厳島神社の本殿が再建される ・鎌倉時代末期に人々が宮島に住むようになる ・オ室町幕府が厳島神社を保護する
戦国時代	・1555年 毛利元就が厳島の戦いで勝利する ・毛利氏が厳島神社の大鳥居を再建する
江戸時代	・広島藩主の福島氏や浅野氏がカ交易の中継都市として宮島を発展させる ・僧侶により教えられた杓子作りが宮島の産業となる ・1866年 キ勝海舟が長州藩との戦いの休戦会談を宮島でおこなう
明治・大正 時代	・ウ伊藤博文が宮島をたびたびおとずれる ・1899年 厳島神社の本殿などが重要文化財に指定される ・1923年 宮島全体が国の史跡名勝に指定される
昭和・平成 時代	・ケ1952年 厳島神社の本殿などが国宝に指定される ・1996年 厳島神社が世界文化遺産に登録される

問1 下線部アについて、日本では古くから人々は厳しい自然の力をおそれながらも、その恵みに感謝してきました。下の2つは縄文時代につくられた土の人形ですが、これらは何と呼ばれるか、答えなさい。



(いずれも「ColBase (国立文化財機構所蔵品検索システム)」より)

問2 下線部イについて、空海について述べた文として正しいものを、次の中から1つ選び、番号で答えなさい。

1. 聖武天皇に協力して弟子たちとともに人々に呼びかけ、東大寺の大仏を造立した。
2. 中国から幾度にもわたる苦難を乗り越え来日し、天皇から唐招提寺を与えられた。
3. 「弘法大師」とも呼ばれ、各地に伝説を残すとともに書道の名手としても知られる。
4. 阿弥陀仏によって救われる浄土真宗を広め、信者は一向一揆をむすんだ。

問3 下線部ウについて、平清盛が活躍していた時期について述べた文として正しいものを、次の中から1つ選び、番号で答えなさい。

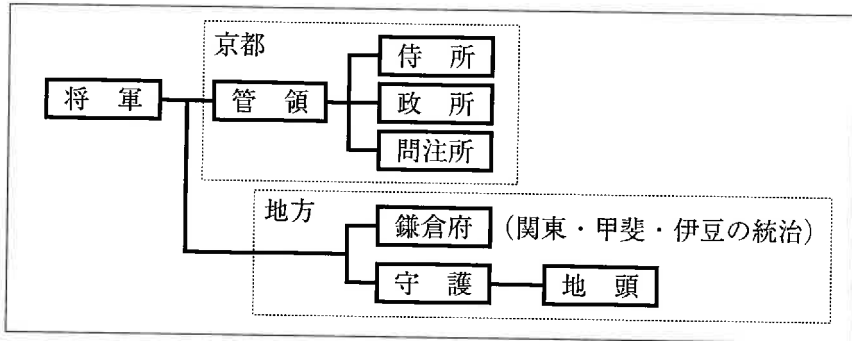
1. 藤原道長が4人の娘を天皇の^{すまみ}后として、権力を握っていた。
2. 後白河上皇が天皇家内の争いに勝利して、院政をおこなっていた。
3. 学者でもあった菅原道真の提案により、遣唐使の派遣を中止した。
4. 武士のための法律や裁判基準として、御成敗式目がつくられた。

問4 下線部エについて、鎌倉幕府に関する出来事について挙げた次のⅠ～Ⅲを古い順に並べた時、正しいものを、下の中から1つ選び、番号で答えなさい。

- Ⅰ 3代将軍が暗殺され、源氏の将軍が途絶える。
- Ⅱ 永仁の徳政令が出され、御家人の土地が返却される。
- Ⅲ 博多湾に防塁を築くように幕府が指示を出す。

1. Ⅰ→Ⅱ→Ⅲ
2. Ⅰ→Ⅲ→Ⅱ
3. Ⅱ→Ⅰ→Ⅲ
4. Ⅱ→Ⅲ→Ⅰ
5. Ⅲ→Ⅰ→Ⅱ
6. Ⅲ→Ⅱ→Ⅰ

問5 下線部オについて、下の表は室町幕府の組織をまとめたものですが、これを参考にして、室町幕府の組織について述べた文として正しいものを、下の中から1つ選び、番号で答えなさい。



1. 将軍を補佐するのは管領と呼ばれる役職で北条氏が^{れきにん}歴任した。
2. 京都には鎌倉幕府にもおかれていた侍所や政所があった。
3. 鎌倉には東北や蝦夷地を支配するために鎌倉府がおかれた。
4. 各国におかれた地頭は、守護を従えて領国を支配した。

問6 下線部カについて、江戸時代には瀬戸内海を多くの船が行き来し、人や物資を大阪などに運びました。下の絵は江戸時代の大阪を描いたものですが、これを参考にして、この時代の大阪の町と商人について述べたア～エのうち、正しい文の組み合わせを、下の中から1つ選び、番号で答えなさい。



出典「Tokyo Museum Collection」(<https://museumcollection.tokyo/works/6240034/>)

- ア. 港には各藩の蔵屋敷が並び、船での物資の出し入れがしやすいようになっている。
 イ. 港には蒸気船がやってきて、オランダ商館での取引がおこなわれた。
 ウ. 江戸時代の人口は約60%が商人だったので、港町だけでなく城下町も発展した。
 エ. 商人たちの中には貨幣の両替で豊かになり、大名にお金を貸し付ける者もいた。

1. アとウ
2. アとエ
3. イとウ
4. イとエ

問7 下線部キについて、この出来事以前に起きた事柄として正しいものを、次の中から1つ選び、番号で答えなさい。

- | | |
|-----------------|-----------------|
| 1. 日米修好通商条約を結ぶ | 2. 五箇条の御誓文が出される |
| 3. 自由民権運動が盛んになる | 4. 戊辰戦争が始まる |

問8 下線部クについて、伊藤博文に関連して挙げた次のⅠ～Ⅲを古い順に並べた時、正しいものを、下の中から1つ選び、番号で答えなさい。

- Ⅰ 内閣制度が始まり、伊藤博文が初代内閣総理大臣となる
- Ⅱ 伊藤博文を中心につくられた大日本帝国憲法が公布される
- Ⅲ 伊藤博文が陸奥宗光とともに下関条約に調印する

- | | | |
|----------|----------|----------|
| 1. Ⅰ→Ⅱ→Ⅲ | 2. Ⅰ→Ⅲ→Ⅱ | 3. Ⅱ→Ⅰ→Ⅲ |
| 4. Ⅱ→Ⅲ→Ⅰ | 5. Ⅲ→Ⅰ→Ⅱ | 6. Ⅲ→Ⅱ→Ⅰ |

問9 下線部ケについて、この年の出来事として正しいものを、次の中から1つ選び、番号で答えなさい。

- | | |
|----------------|----------------------|
| 1. 日本国憲法が制定される | 2. 最初の東京オリンピックが開催される |
| 3. 日本が主権を回復する | 4. 国民所得倍増計画が発表される |

問10 年表をまとめたカオルさんは気づいたことをメモしました。年表から読み取れる内容として正しいものを、次の中から1つ選び、番号で答えなさい。

- | |
|--|
| 1. 宮島の人々にとって厳島神社は生活や信仰に関係ないものであった。 |
| 2. 武士や武家政権は厳島神社を保護することが多かった。 |
| 3. 江戸時代の中ごろまで宮島にはほとんど人が住んでいなかった。 |
| 4. 厳島神社は度重なる戦いや災害で焼失し、明治以前の建物は ^{なびかき} ない。 |

3

次の文章を読んで、後の問いに答えなさい。

桐光学園中学校では、長野県でおこなわれるスキースクールや、^ア世界遺産がある京都や広島でおこなわれるサマースクールなど多くの学校行事が実施されていますが、最近では気温の上昇による雪不足や暑さ対策などに気を遣^{つか}う事が増えてきました。

2024年の7月末から で開催されたオリンピック・パラリンピックでも、ここ数年ヨーロッパで報道されるようになった熱波による競技への影響が心配されました。

温暖化も含めた^イ地球環境の問題は、今や人類全体の課題とされています。大規模森林火災や、氷河の減少、低地の水没化、などがあげられます。温暖化の主な原因は、二酸化炭素などの ガスがあげられます。「^ウSDGs」においても、目標13に「気候変動に具体的な対策を」と掲げており、地球温暖化への対策が求められています。

2022年2月24日、ロシアが に侵攻しました。^エ戦争や紛争において、生命や人道上の問題があることは当然ですが、飛行機や戦車による燃料の大量消費や、発電所などのインフラ施設が燃えることによる、二酸化炭素の発生も問題となっています。このように国際情勢の不安定さも気候変動の問題を深刻にしている一因となっています。

地球温暖化防止に向けた世界初の国際的合意として、1997年に京都議定書が採択されました。その中で、各国の削減目標を容易にするために、 量取引という、国や企業との間で 枠の一部を取引する制度も導入されました。しかしアメリカの離脱などで足並みがそろいませんでした。その後の 協定では、先進国だけではなくすべての国において ガス削減に向けた取り組みが求められました。 協定では、18世紀後半のイギリスで起こった 革命以前に比べて、1.5度の上昇に抑えるように努力することを目標としています。

近年の日本国内における環境への政策としては、2012年の10月から、「地球温暖化対策税」が始まり、2024年の4月からは、^オ地方自治体レベルでは以前から導入されていた「^カ森林環境税」が国税として導入されました。^キ税負担の増加は、国民にとっては重荷となりますが、有効な環境対策の原資となることが期待されています。

問1 文中の ～ にあてはまる語句を答えなさい。 は都市名、 は国名を答えなさい。

問2 下線部アについて、以下の問いに答えなさい。

- (1) 日本には、「一信仰の対象と芸術の源泉」として登録されている文化遺産があります。このにあてはまる語句として正しいものを、次の中から1つ選び、番号で答えなさい。

1. 富士山 2. 知床 3. 屋久島 4. 白神山地

- (2) 世界遺産を認定する組織は、どの機関に属しているか、次の中から1つ選び、番号で答えなさい。

1. 国連環境計画 2. 国連児童基金
3. 国際通貨基金 4. 国連教育科学文化機関

問3 下線部イについて、環境に関する以下の問いに答えなさい。

- (1) 2022年4月から施行された「プラスチック資源循環促進法」の説明として誤っているものを、次の中から1つ選び、番号で答えなさい。

1. 事業者がプラスチックの自主回収、再資源化に取り組むこととした。
2. 森林の持続可能性を高めるため、紙などの再生可能資源から、プラスチックの利用への切り替えを促した。
3. 特定プラスチック使用製品として、主としてプラスチック製であるスプーンやフォークなどの12品目が指定された。
4. 排出事業者による排出の抑制・再資源化に取り組むこととした。

- (2) 環境権は、主に2つの条文を根拠として、憲法上の権利として主張されます。この2つの条文の空欄に入る語句の組み合わせとして正しいものを、下の中から1つ選び、番号で答えなさい。

第条

すべて国民は、健康で文化的な最低限度の生活を営む権利を有する。

国は、すべての生活部面について、社会福祉、社会保障及び公衆衛生の向上及び増進に努めなければならない。

第13条

すべて国民は、個人として尊重される。生命、自由及び幸福追求に対する国民の権利については、に反しない限り、立法その他の国政の上で、最大の尊重を必要とする。

1. ア：14 イ：法の下の平等 2. ア：14 イ：公共の福祉
3. ア：25 イ：法の下の平等 4. ア：25 イ：公共の福祉

問4 下線部ウについて、「SDGs」に関する説明として正しいものを、次の中から1つ選び、番号で答えなさい。

1. SDGsには「持続可能な社会」の実現を目指した21の目標が設定されている。
2. SDGsは2001年に策定されたミレニアム開発目標の後継としてWHOで定められた。
3. 国連機関の発表では、日本の気候変動の取り組みは、先進国の中で最も優れていると評価されている。
4. 国連機関の発表によると、日本では、「ジェンダー平等を実現しよう」という目標において、大きな課題があると指摘されている。

問5 下線部エについて、核と軍縮に関する説明として正しいものを、次の中から1つ選び、番号で答えなさい。

1. 1963年の部分的核実験禁止条約では、世界の全ての国が地下実験以外の核実験の禁止に同意した。
2. 第二次世界大戦の末期に広島と長崎に原子爆弾が投下されたが、現在においても、日本は世界で唯一の戦争被爆国である。
3. 2017年に国連で核兵器禁止条約が採択され、日本を含め、核の保有国が全て調印した。
4. 日本は1967年の佐藤栄作首相の時に、核兵器を「持たず、作らず、持ち込ませず」という武器輸出三原則を表明した。

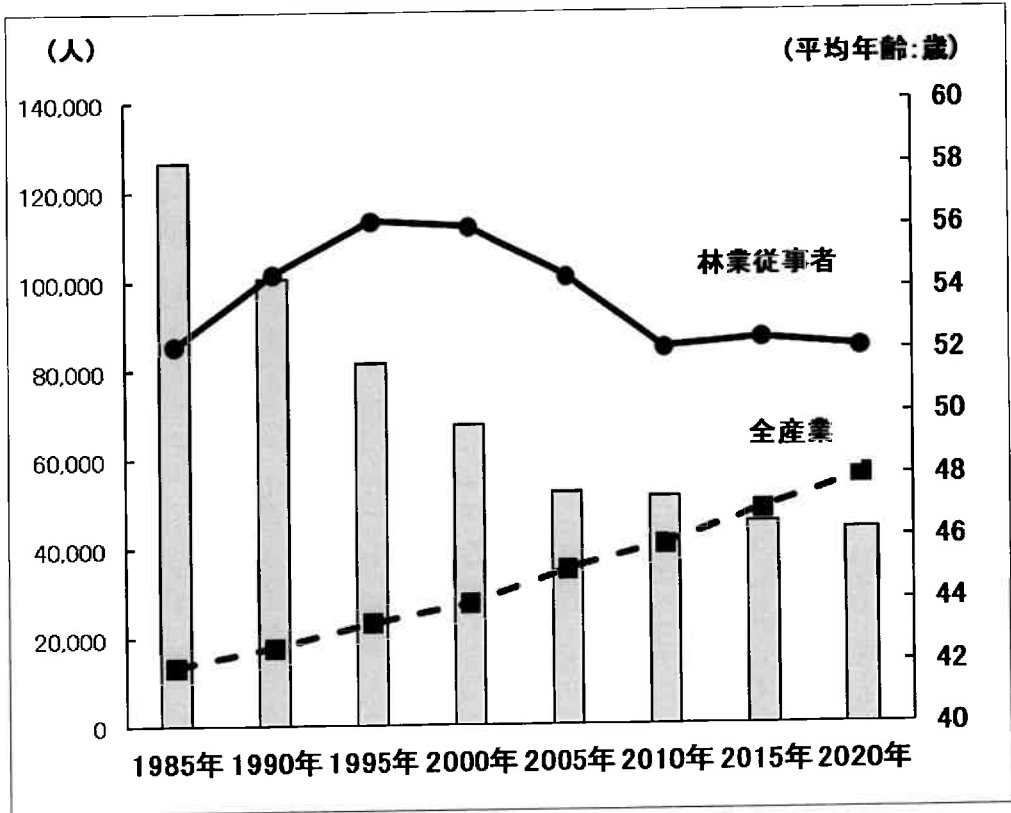
問6 下線部オについて以下の問いに答えなさい。

- (1) 地方自治体が国に先んじて条例として制定し、後に法律として制定された、大規模な開発の前に環境への影響を事前に調査する制度を何というか、解答欄に合う形で、カタカナで答えなさい。
- (2) 地方自治についての説明として誤っているものを、次の中から1つ選び、番号で答えなさい。

1. 条例の制定・改廃の請求の場合、有権者の3分の1以上の署名が必要である。
2. 国が特定の地方公共団体にのみ適用する法律を作る場合、その地域の住民投票で過半数の賛成が必要である。
3. 首長に対し、地方議会が不信任決議をした場合、首長は10日以内に、地方議会を解散することができる。
4. 被選挙権は市区町村長では満25歳以上、都道府県知事では満30歳以上となっている。

問7 下線部カについて、次の図の棒グラフは日本の「林業従事者数の推移」を、折れ線グラフは日本の「林業従事者と全産業の従事者の平均年齢」を表したものです。この資料からよみとれる日本の林業の問題点を説明し、どのようにしたら改善することができるか答えなさい。

【資料】



(林野庁 Web サイト資料より作成)

問8 下線部キについて、日本の財政に関する説明として正しいものを、次の中から1つ選び、番号で答えなさい。

1. 歳入における公債金の割合は、以前は3割程度であったが、近年は、1割程度に低くおさえられている。
2. 歳出において、近年、最も割合の高いものは、社会保障関係費となっている。
3. 国庫支出金は、地方公共団体の財政格差を縮小するために、国から支給されるお金である。
4. 所得税や法人税は間接税で、消費税は直接税に分類されている。

【社会】 解答用紙 (中学第2回)

1

問1 (1) (2) (3)

問2 問3 問4 問5

問6 (1) (2) A B (3)

問7

問8

1

2

問1 問2 問3 問4

問5 問6 問7

問8 問9 問10

2

3

問1 ① ② ガス ③

④ ⑤ 革命

問2 (1) (2) 問3 (1) (2)

問4 問5

問6 (1) 環境 (2)

問7

問8

3

得点	
----	--

受験番号					氏名	
------	--	--	--	--	----	--

